




日期：_____

成績：_____



填一填。


1.



$$5 + \square = \square$$

5 加 \square 等於 \square 。

2.



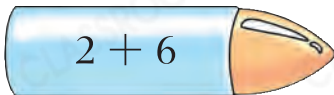
$$\square + 6 = 13$$

\square 加 6 等於 \square 。



把答案相同的連起來。

3.




$$\bullet \quad 9 + 3$$

4.




$$\bullet \quad 3 + 2$$

5.



$$\bullet \quad 6 + 2$$

6.



$$\bullet \quad 8 + 7$$

7.



$$\bullet \quad 7 + 4$$

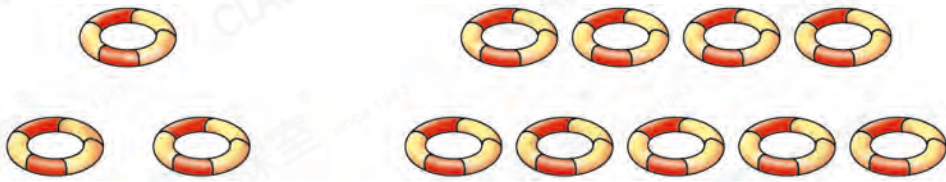
8.





(a) 有 _____ 隻  和 _____ 隻  。

(b) 共有  和  : _____ + _____ = _____ (隻)


9.



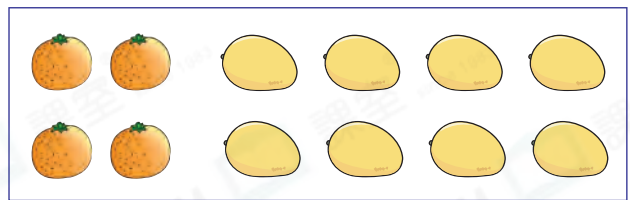
上圖中，共有  多少個？(列式計算)

_____  _____
 = _____
 共有  _____ 個。

10.



張太太買的水果



李太太買的水果

(a) 兩人買的水果數目相同嗎？

答案：★ 相同 / 不相同 (★ 圈出答案)

(b) 兩人共買了 _____ 個  和  。

11. 如果 $\triangle + \triangle = 18$ ，那麼 $\triangle + 2 = ?$

進階

○ A. 8

○ B. 9

○ C. 11

○ D. 12