



日期：\_\_\_\_\_

成績：\_\_\_\_\_



數一數。

1.




隻



2.




顆



3.




個

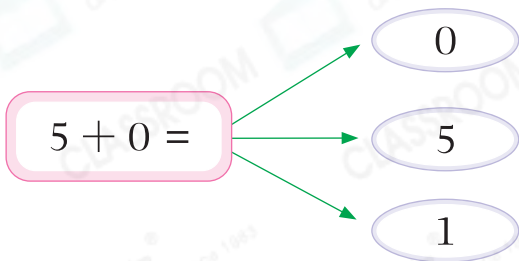


STEAM 百科

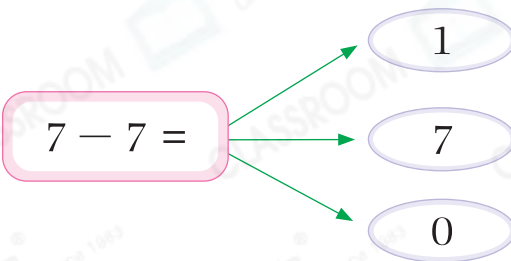
0並非沒有意義，比如當溫度在 $0^{\circ}\text{C}$ 或以下時，水會變成冰。

在正確的  內填色。

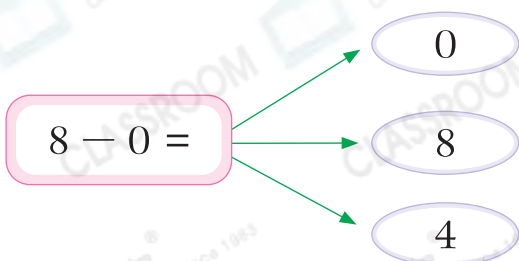
4.



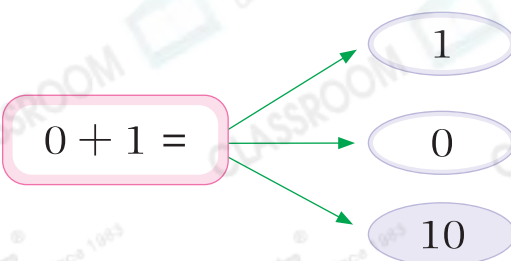
5.



6.



7.



8.  $4 - \underline{\hspace{2cm}} = 4$



9.  $\underline{\hspace{2cm}} + 1 = 1$

10.  $5 - \underline{\hspace{2cm}} = 0$

11.  $\underline{\hspace{2cm}} - 0 = 6$

12.



(a) 共有  和  :  $\underline{\hspace{2cm}} + \underline{\hspace{2cm}} = \underline{\hspace{2cm}}$  (隻)

(b)  比  多 :  $\underline{\hspace{2cm}} - \underline{\hspace{2cm}} = \underline{\hspace{2cm}}$  (隻)

13. 以下哪一道算式的答案是不正確的？


A.  $1 - 0 = 0$



B.  $3 + 0 = 3$

C.  $0 + 2 = 2$

D.  $9 - 9 = 0$

14. 哥哥從右面的筆筒裏取走全部  後，還有  多少枝？  
(列式計算)

$\underline{\hspace{2cm}} \bigcirc \underline{\hspace{2cm}}$   
 $= \underline{\hspace{2cm}}$   
 還有   $\underline{\hspace{2cm}}$  枝。



(a) 吃掉4顆  A盒 / B盒 ( 圈出答案)的巧克力，便會餘下空盒。

(b) 多放  $\underline{\hspace{2cm}}$  顆巧克力進B盒，便會把盒子填滿。