



日期：_____

成績：_____



圈一圈。

1. 較高的



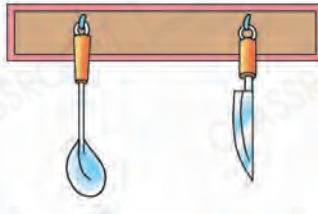
2. 較矮的



3. 較薄的



4. 較長的



圈一圈，畫一畫。

5. 花與( / )之間的距離較遠。6. 蜜蜂與( / )之間的距離較近。7. 在  和  中間畫一棵最高的樹。

8. 把以下三條繩子由短至長排列出來，寫出代表答案的英文字母。

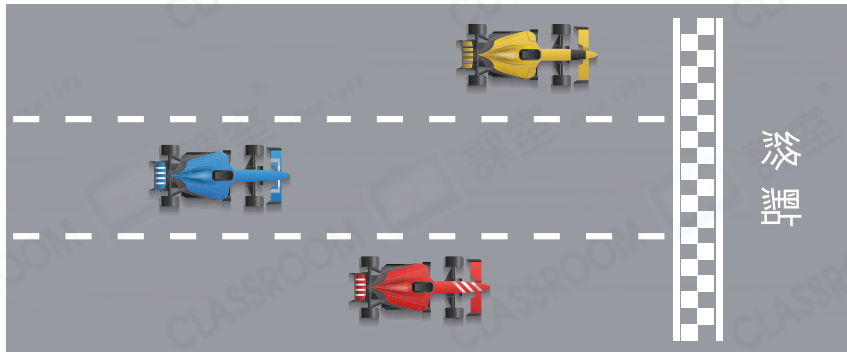
繩子A 

繩子B 

繩子C 

答案：繩子 _____ ，繩子 _____ ，繩子 _____
 (最短) (最長)

9.



(a)  /  /  (★ 圈出答案) 距離終點最近。

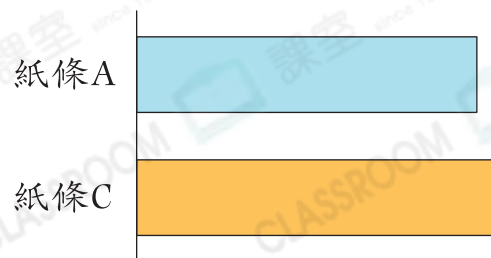
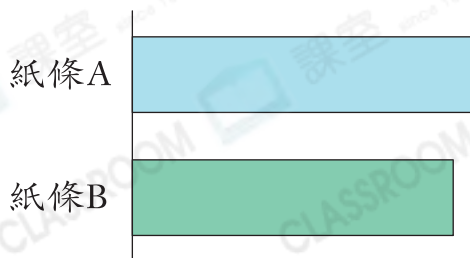
(b)  /  /  (★ 圈出答案) 距離終點最遠。

10. 右圖中，哪一本書最薄？

答案：★ 少兒漫畫 / 字典 / 童話故事
 (★ 圈出答案)



11.



上圖中，紙條B比紙條C ★ 長 / 短 (★ 圈出答案)。