

練習 10 - 15

範疇	評估重點	題目	得分
數	<ul style="list-style-type: none"> ◇ 基本加法 ◇ 基本減法 ◇ 0的認識 	1-13	/16
度量	<ul style="list-style-type: none"> ◇ 長度和距離 	14-18(a)	/7
圖形與空間	<ul style="list-style-type: none"> ◇ 物件的相對位置 	18(b)-20	/6

自我評估

22-29分 

15-21分 

0-14分 

1. $2 + 7 =$ _____

2. $8 + 6 =$ _____

3. $12 - 4 =$ _____

4. $9 - 0 =$ _____

5. $6 +$ _____ $= 13$

6. $5 + 9 = 9 +$ _____

7.  花瓶內共有花多少枝？

答案：共有 _____ 枝花。

8. 下列哪一個數減去5，結果會是0？

A. 10

B. 8

C. 7

D. 5

9. 一份 ，吃了6件 ，餘下 _____ 件 .

評分欄



1分



1分



1分



1分



1分



1分



1分



1分



1分



1分



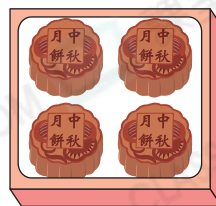
1分



1分



10. 右圖是爸爸買的月餅，下列哪一項可以計算爸爸買了月餅多少個？



- A. $4 + 4$ ○ B. $4 + 3$
- C. $3 + 3$ ○ D. $4 - 3$

11.



家裏有 8 個  和 5 個 ，家裏共有杯子多少個？
(列式計算)


_____ ○ _____
= _____

家裏共有杯子 _____ 個。



12.



上面的  送出 7 份後，還餘下多少份？(列式計算)

_____ ○ _____
= _____

還餘下 _____ 份。





13.



媽媽買了以上冰棒， 和  相差多少條？(列式計算)

_____ ○ _____

= _____

 和  相差 _____ 條。



1分



1分



1分

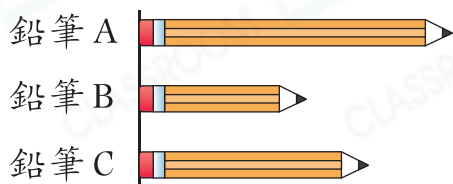


1分



1分

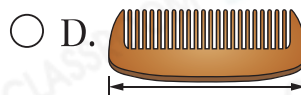
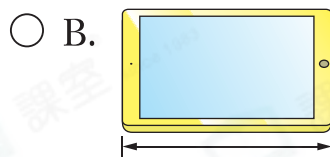
14.



鉛筆  A / B / C ( 圈出答案) 最長。

15.

下列哪一項最適合用來量度  的長度？










16.



 距離   /  ( 圈出答案) 較遠。

17. 小思正在量度文具的長度。






- (a)  約長 _____ 個 。
- (b)  約長 _____ 個 。
- (c)  比  約長 _____ 個 。


18. 右圖中，

- (a) 瓶子 _____ 最高。
- (b) 瓶子 _____ 在最右面。



19. 思思把一些紙鶴掛在繩子上，如右圖所示。

- (a)  在  的 _____ 面。
- (b)  的下面有 _____ 隻紙鶴。



20.



- (a)   /  ( 圈出答案) 排在最後。
- (b)   /  ( 圈出答案) 在  和  之間。
- (c)  在   /  /  ( 圈出答案) 的前面。

 **剔一剔**

完成所有題目

已檢查答案