



# 應用題訓練一



日期：\_\_\_\_\_

成績：\_\_\_\_\_

○10以內的加法    ○10以內的減法





上圖中共有水果多少個？

\_\_\_\_\_ ○ \_\_\_\_\_

= \_\_\_\_\_

上圖中共有水果\_\_\_\_\_個。

提示

「水果」數量即是  和  的總數量。



慧文有上面的髮夾，送給朋友2對後，餘下髮夾多少個？

\_\_\_\_\_ ○ \_\_\_\_\_

= \_\_\_\_\_

餘下髮夾\_\_\_\_\_個。

提示

「一對」是2個。

3. (a) 弟弟原有3張貼紙，又買了2張，他現有貼紙多少張？

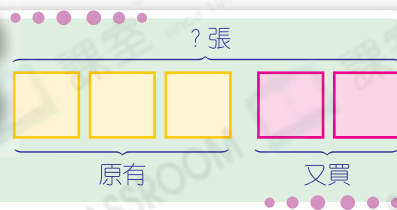
\_\_\_\_\_ ○ \_\_\_\_\_

= \_\_\_\_\_

他現有貼紙\_\_\_\_\_張。


圖

解



(b) 哥哥原有8張貼紙，送給弟弟2張後，餘下\_\_\_\_\_張貼紙。

4. 下面是陳太太和王太太有的印花。



(a) 兩人的印花相差多少個？


\_\_\_\_\_ ○ \_\_\_\_\_  
 = \_\_\_\_\_  
 兩人的印花相差 \_\_\_\_\_ 個。

提示


從圖中得知，陳太太的印花數目較多。

(b) 兩人共有 \_\_\_\_\_ 個印花。

5. 玉珊有5枝 ，婉琪比她多1枝，婉琪有  多少枝？

\_\_\_\_\_ ○ \_\_\_\_\_  
 = \_\_\_\_\_  
婉琪有  \_\_\_\_\_ 枝。

圖解



6.



一輛的士坐滿後，還餘多少人在排隊？

\_\_\_\_\_ ○ \_\_\_\_\_  
 = \_\_\_\_\_  
 還餘 \_\_\_\_\_ 人。

提示

