


應用題訓練二

日期：_____

成績：_____

○18以內的加法 ○18以內的減法 ○0的應用

1.



一盒餅乾有 8 塊  和 7 塊 ，一盒餅乾共有多少塊？

_____ ○ _____

= _____

一盒餅乾共有 _____ 塊。

提示

留意每種餅乾的數量。

2.



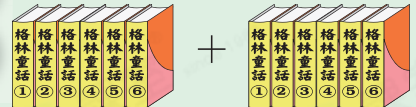
兩套《格林童話》共有多少本？




_____ ○ _____

= _____

兩套《格林童話》共有 _____ 本。


圖解



3. 弟弟原有 ，送給妹妹一些後，餘下 8 粒 。弟弟送給妹妹  多少粒？

_____ ○ _____


= _____

弟弟送給妹妹  _____ 粒。

提示

送出的珠子 = 弟弟原有的一餘下的

4. 以下是立中有的鉛筆。





如果他沒有用鉛筆，還有鉛筆多少枝？

_____ ○ _____
 = _____
 還有鉛筆 _____ 枝。

提示

「沒有」，即代表「0」的意思。

5. 冰箱裏有 7 罐  和 4 罐  。

(a) 共有 _____ 罐  和  。

(b) 爸爸喝掉 7 罐飲品後，餘下飲品多少罐？

_____ ○ _____
 = _____
 餘下飲品 _____ 罐。

圖解



6. 美玉用了 9 張  和 8 張 ，家信用了 8 張  和 9 張  。

(a) 兩人用的手工紙的數目  相同 / 不相同 ( 圈出答案)。

(b) 兩人共用了藍色手工紙多少張？

_____ ○ _____
 = _____
 兩人共用了藍色手工紙 _____ 張。

提示

根據問題，選取適當的數據。