

公開試題型分析



數範疇



1. 寫出一個比10大，又比16小的偶數。

答案：_____

2. $16 - \underline{\hspace{2cm}} = 7$



以上是媽媽買的 ，吃了6顆後，餘下  多少顆？

_____  _____
 = _____
 餘下  _____ 顆。

4. 以下是「科技體驗營」前三天的報名人數。

	第一天	第二天	第三天
報名人數	15	20	18

把前三天的報名人數由多至少排列出來。

答案：_____，_____，_____
 (最多) (最少)



得分重點

⊕ 留意關鍵字「偶數」。

得分重點

⊕ 考慮16可分解為7和哪一個數。

得分重點

⊕ 數出  的數量。
 ⊕ 列寫算式。
 ⊕ 餘下的 
 = 購買的 - 吃了的

得分重點

⊕ 按題目要求排列。

5. 列出 10 以內的所有奇數。


答案：_____

得分重點

⊗ 不能漏寫或多寫。

度量範疇

6.



上圖中，

(a) 最矮的台階是 A / B / C 。

(圈出答案)

(b) 美琳 / 志峰 / 子健 最矮。

(圈出答案)

得分重點

⊗ 留意字眼「最矮」。

得分重點

⊗ 站在台階上高度一樣，台階越高，身高越矮。

7.

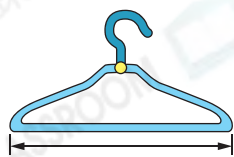


得分重點

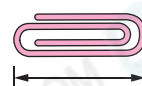
⊗ 自訂單位不能長於智能手機的實際長度。

下列哪一項最適合用來量度上面智能手機的長度？

A.



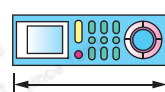
B.



C.



D.



8. 牙刷



牙籤



圖中牙刷的長度等於_____枝牙籤的長度。

得分重點

⊗ 畫出長度相等的牙籤草圖便可得出答案。

圖形與空間範疇

9. 美雲在牆上貼了7張相片。



(a)  在  的_____面。

(b)  在  的_____面。

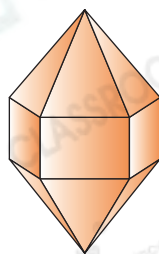
(c) ☆  /  /  在  和  之間。

(☆圈出所有答案)

得分重點

⊗ 以自己作為觀測者來描述牆上各相片的相對位置。

10. 右圖是由一個_____和兩個_____組成的。



得分重點

⊗ 應按照數量「一個」和「兩個」順序寫答案。

⊗ 別寫錯別字。