

第二次小測 (1上數學科)

姓名：

日期：

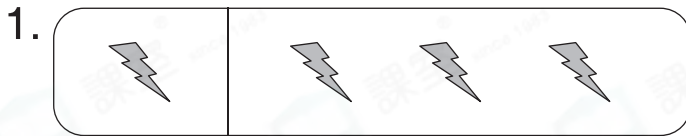
班別： ()

成績： /19

時限： 15分鐘

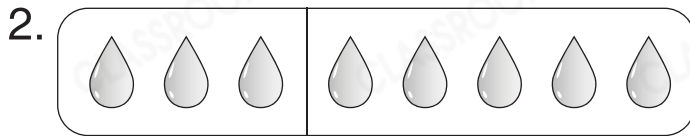
(範圍：練習5-9)

一、看圖畫，填一填。(8分)




1和3合成為_____。

$1 + 3 = \underline{\hspace{2cm}}$




8分解為_____和5。

$8 - \underline{\hspace{2cm}} = 5$



$7 + 6 = \underline{\hspace{2cm}}$

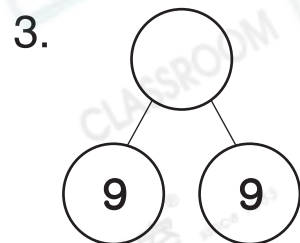
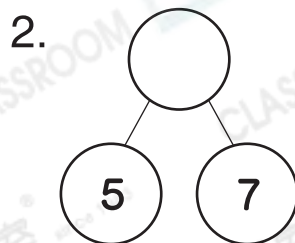
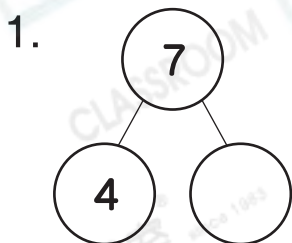
$13 - \underline{\hspace{2cm}} = 6$



$\underline{\hspace{2cm}} + 9 = 17$

$17 - \underline{\hspace{2cm}} = 9$

二、填一填。(3分)

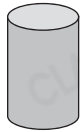


三、回答下列各題。(8分)

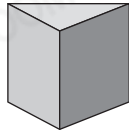
1. 寫出所有代表答案的英文字母。



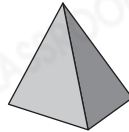
A



B



C



D



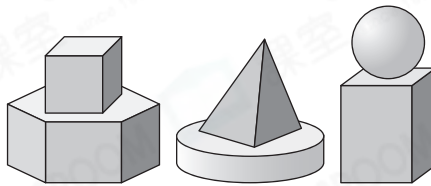
E

(a) 圓錐：_____

(b) 角柱：_____

(c) 角錐：_____

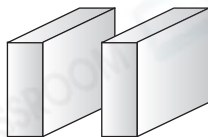
2.




(a) 上圖中共有_____個角柱。

(b) 上圖中共有_____個立體圖形能滾動。

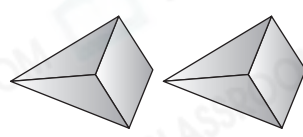
3.



第一組



第二組



第三組

第_____組的兩個立體圖形能疊得穩，且能滾動。

4. (a) 立體圖形 P 是哪種立體？

答案：_____

(b) 立體圖形_____是圓錐。

