

第三次小測 (1上數學科)

姓名：

日期：


班別： ()

成績： /20

時限： 15分鐘


(範圍：練習10-12)

一、數一數，填一填。(6分)




$$6 + \square = 10$$

$$10 - \square = 6$$



$$\square + 7 = 15$$

$$15 - \square = 8$$



$$\square + \square = 14$$

$$14 - \square = 5$$

二、算一算。(8分)

1. $5 + 1 = \underline{\quad}$

2. $10 - 3 = \underline{\quad}$

3. $7 + 4 = \underline{\quad}$

4. $16 - 8 = \underline{\quad}$

5. $2 + 0 = \underline{\quad}$

6. $9 - 9 = \underline{\quad}$

7. $6 + 7 = 7 + \underline{\quad}$



8. $8 + \underline{\quad} = 12$

三、列式計算下列各題。(6分)

1.






共有  和  多少支？


$\underline{\quad\quad\quad} \bigcirc \underline{\quad\quad\quad}$
 $= \underline{\quad\quad\quad}$
 共有  和  $\underline{\quad\quad\quad}$ 支。

2. 拿走6隻蛋後，還餘蛋多少隻？

$\underline{\quad\quad\quad} \bigcirc \underline{\quad\quad\quad}$
 $= \underline{\quad\quad\quad}$
 還餘蛋 $\underline{\quad\quad\quad}$ 隻。



3. 吃了4個  後，餘下右面的 ，原有  多少個？

$\underline{\quad\quad\quad} \bigcirc \underline{\quad\quad\quad}$
 $= \underline{\quad\quad\quad}$
 原有  $\underline{\quad\quad\quad}$ 個。

