

第四次小測 (1上數學科)

姓名：

日期：

班別： ()

成績： /15

時限： 15分鐘

(範圍：練習13-15)

一、圈一圈。(4分)

1. 較高的



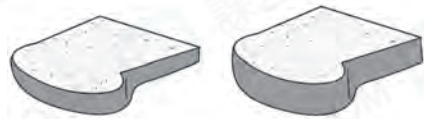
2. 較窄的





3. 較短的





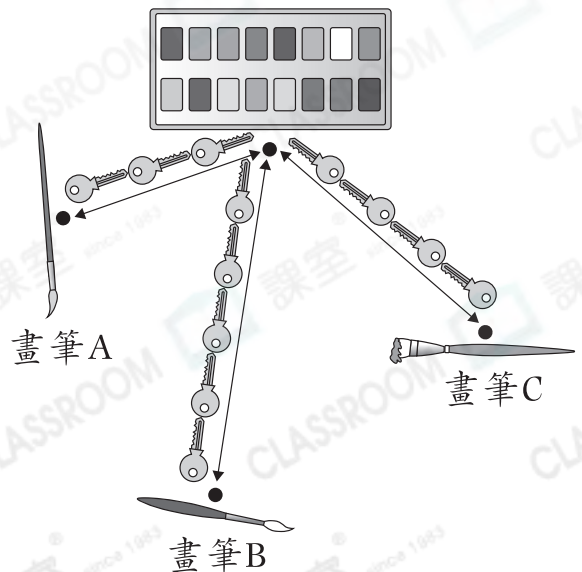
4. 較厚的



二、填一填。(4分)


1. 距離  最近的是
畫筆 _____，相距
_____ 個 .



2. 距離  最遠的是
畫筆 _____，相距
_____ 個 .




三、圈一圈。(4分)



1.




 在  的(上 / 下)面。


2.




 在  的(前 / 後)面。

3.



 在(左 / 右)面。

4.



( /  / )
在其他兩個球之間。

四、根據左面的描述，在右面的空格內填上數字。(3分)

- I. 6在8的下面。
- II. 4在9和10之間。
- III. 7在12的上面。

8		5
	12	14
9		10