

2

順數和倒數、 奇數和偶數




日期：_____

成績：_____



數一數，圈一圈。

1.



_____ 尾

(奇數 / 偶數)



奇數可以稱作「單數」；偶數可以稱作「雙數」。

2.



_____ 個

(奇數 / 偶數)

3.




_____ 隻

(奇數 / 偶數)




依指示填一填。


4. 順數



5. 倒數



6. 倒數



7. 以下哪一組數是倒數？

○ A. 2, 4, 6, 7, 8

○ B. 10, 11, 12, 13, 14

○ C. 19, 18, 17, 16, 15

○ D. 13, 12, 10, 9, 8

8. 圈出所有奇數。



9.



(a) 禮物的數目是★ 奇數 / 偶數 (★ 圈出答案)。

(b) 最少送出_____份禮物後，餘下的數目才是偶數。

10. 由5至15，共有奇數多少個？

答案：_____個

得分重點


- ⊗ 留意字眼「奇數」。
- ⊗ 須包括5和15。



11. 老師在黑板上寫了一組倒數的數。

(a) □代表的數是_____。

(b) 由☆順數至15，共有_____個數。



腦力挑戰站



詳盡提示

依規律在方格內填上適當的數字。

1	4	7
---	---	---

2	5	8
---	---	---

3		
---	--	--