

3

比較數量



日期：_____



成績：_____



圈一圈。



1.



 比  (多 / 少)，所以 5 比 8 (大 / 小)。

2.



 比  (多 / 少)，所以 12 比 10 (大 / 小)。



依指示圈出答案。

3. 最小的數

9

6

4

10

4. 最大的數

12

15

2

20

5. 最大的奇數

14

11

9

18

6. 下列哪一項是正確的？

A. 5 比 2 小。

B. 8 比 10 大。

C. 14 比 10 大。

D. 11 比 9 小。

7.



(a) ☆  /  /  (☆ 圈出所有答案) 的數量多於 4 盒。

(b) 數量最少的飲品有 _____ 盒。

8. 以下哪一個是大於 11，但小於 15 的偶數？

A. 10

B. 11

C. 12

D. 13

9.



小文有以上糖果。他想送 18 顆糖果給朋友，他 ☆ 有 / 沒有 (☆ 圈出答案) 足夠的糖果。

10.

同學	俊文	可怡	雪兒
得分(分)	15	13	18

(a) 由低至高寫出三位同學的分數。

答案：_____ 分， _____ 分， _____ 分
(最低) (最高)

(b) 如果及格分數是 15 分，及格的同學是 _____。

得分重點

⊕ 留意「最低」及「最高」的位置。

⊕ 須列寫所有及格的同學。