




日期：_____

成績：_____



在_____上寫出答案。

1.



少平爬山用了_____小時。

2.



珍珍和媽媽在公園逗留了_____小時。



在下表中填寫電影《動物樂園》的結束時間。

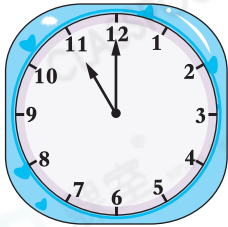
場次	開始時間	結束時間
3. 第一場		_____
4. 第二場		_____

電影《動物樂園》
片長2小時。


5. 以下是媽媽做蛋糕和打掃衛生的開始時間和結束時間。

做蛋糕

打掃衛生



開始時間



結束時間



開始時間



結束時間

(a) 做蛋糕用了 _____ 小時。


(b) ☆ 做蛋糕 / 打掃衛生 所用的時間較長。

(☆ 圈出答案)


6. 右圖顯示妙玲生日會的開始時間。生日會在5小時後結束，那時是_____。




7. 以下是海獅表演的開始時間。




第一場



第二場



第三場



第四場

(a) 海獅表演每 _____ 小時一場。

(b) 每場表演長1小時，第四場表演的結束時間是_____。

8.



秀容生病了，須每4小時服一次藥，左圖顯示她第一次服藥的時間。她第三次服藥的時間是_____。