

測 驗 一

練習 1-8

日期：_____

成績：_____ /30

時限： 30分鐘

| 範疇 | 評估重點 | 題目 | 得分 |
|----|--|---------|-----|
| 數 | <ul style="list-style-type: none"> ◇ 個位和十位 ◇ 認識 21 至 100 ◇ 每 2、5 和 10 個一數 ◇ 加法 ◇ 減法 | 1 - 17 | /24 |
| 度量 | <ul style="list-style-type: none"> ◇ 報時 ◇ 小時 | 18 - 21 | /6 |

自我評估

23-30分 

16-22分 

0-15分 

1. 以下哪一個數的個位是「5」而十位是「3」?

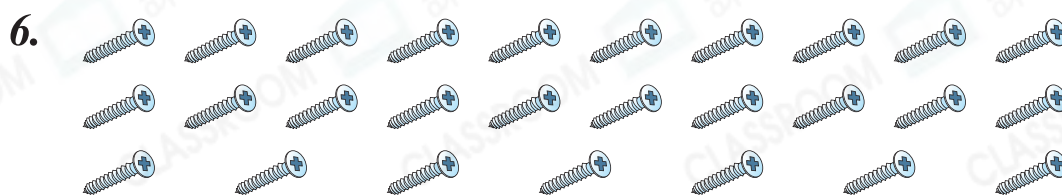
- A. 3 ○ B. 35 ○ C. 53 ○ D. 65


2. 在 85 這個數裏，數字「8」在_____位，表示的數值是_____。

3. $26 + 18 =$ _____

4. $19 + 27 + 23 =$ _____

5. $53 - 11 =$ _____



(a) 把上圖的  每 10 枚一組圈起來。

(b) 共有_____枚 。

7. 寫出一個比 36 大，又比 51 小的奇數。

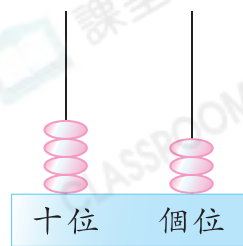
答案：_____

評分欄

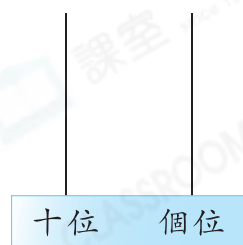


8. (a) 用阿拉伯數字寫出右圖算柱表示的數。

答案：_____



(b) 這個數少 3 是多少？把結果畫在右圖算柱上。



9. 由 85 開始倒數，第六個數是_____。

10.

| | | | |
|-------|----|----|----|
| 班別 | 1A | 1B | 1C |
| 人數(人) | 29 | 31 | 28 |

(a) 由多至少寫出三個班別的人數。


答案：_____人，_____人，_____人
(最多) (最少)

(b) 陳老師任教班別的人數是偶數，他任教哪一班？

答案：_____班

11. (a) 兩箱橙共有_____個。

(b) 一箱蘋果比一箱橙少 12 個，
一箱蘋果有_____個。



12. 明慧有 34 個印花，明莉有 56 個印花，以下哪一道算式可以計算出兩人有的印花相差多少個？

A. $34 - 56$

B. $56 - 34$

C. $34 + 56$

D. $56 + 34$

1分

1分

1分

1分

1分

1分

1分

1分

13. 小慧在一次英文小測中得53分，還差7分便是滿分。英文小測滿分是多少分？(列式計算)

英文小測滿分是 _____ 分。

14. 弟弟計劃26天讀完一本書，但實際上比計劃多用了7天，他用了 _____ 天讀完這本書。

15.

| | | |
|--|--|--|
|  |  |  |
| 15 支 | 18 支 | 23 支 |

數量最多的兩種甜筒共有 _____ 支。

16. 一包手工紙有36張，其中有15張是黃色的，餘下的是紅色的。紅色手工紙有多少張？

答案： _____ 張

17. 活動室有48個座位，共有2名老師和38名學生入座。

(a) 活動室共有 _____ 人。

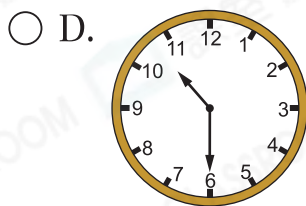
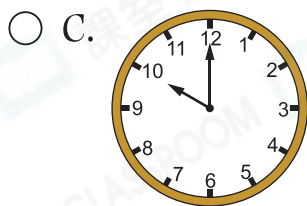
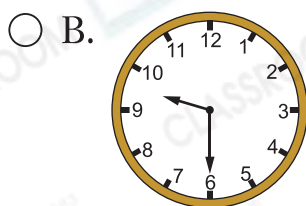
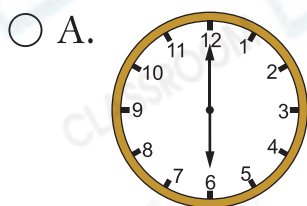
(b) 所有人入座後，餘下空位多少個？(列式計算)

餘下空位 _____ 個。



1分

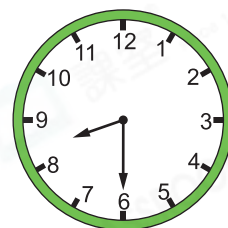
18. 下列哪一個時鐘顯示的時間是10時半？



19. 右圖顯示媽媽早上從家出發的時間。

(a) 媽媽的出發時間是_____。

(b) 媽媽在早上9時半到達機場。她從家到機場用了_____小時。



1分



1分

20. 下圖是振宇砌積木的開始時間和完成時間。

開始時間



完成時間



(a) 振宇砌積木用了_____小時。

(b) 振宇砌完積木才開始做功課。他開始做功課的時間可能是★ 3時 / 4時 / 5時半 (★圈出答案)。



1分



1分

21. 音樂會預計在  開始，結果延遲了1小時，音樂會實際的開始時間是_____。



1分



剔一剔

- 完成所有題目
- 已檢查答案