



日期：_____

成績：_____



填一填。

1.



_____ 角

2.



_____ 元

3.



_____ 元 _____ 角

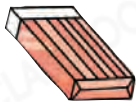


香港共有7種幣值的硬幣。幣值最大的硬幣是10元，幣值最小的硬幣是1角。



填寫售價，並圈出須付的款項。

4.



\$2.80

_____ 元 _____ 角



5.

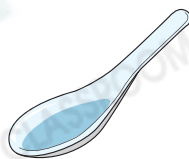


\$5.40

_____ 元 _____ 角





6.





\$8.30

_____ 元 _____ 角



7. (a) 5個  可換得 _____ 個 。

(b) 1個  可換得 _____ 個 。

(c) 4個  和 2個  共可換得 _____ 個 。

8. 思晨有5個波浪形硬幣，她最多有 _____ 元。

9. 以下是國強在麵包店購買一個牛角包所付的款項。



(a) 國強用了 _____ 個2角硬幣。

(b) 牛角包的售價是 _____ 元 _____ 角。


10. (a) 一盒牛奶的售價是多少？

答案： _____ 元 _____ 角



(b) 哥哥付  買一盒牛奶，圈出店員應找回的金額。



 11. 可欣想購買右面的聖誕卡且不用找贖，最少須付硬幣多少個？

答案： _____ 個

