



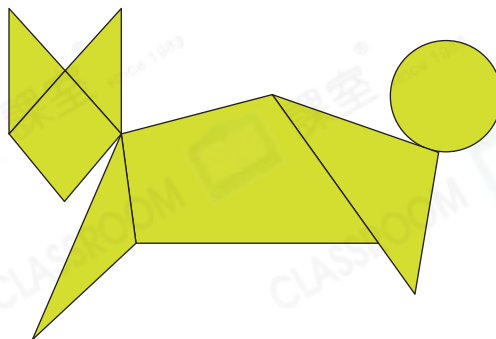
日期：_____

成績：_____



數一數。

1. _____ 個圓形。
2. _____ 個三角形。
3. _____ 個四邊形。




寫出左面圖形的名稱，並在同類的圖形上加上「✓」。

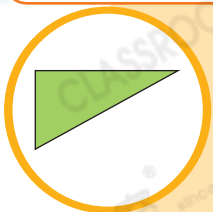
4. _____ 形



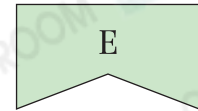
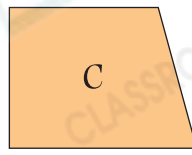
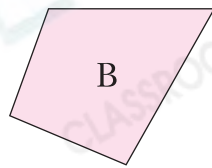
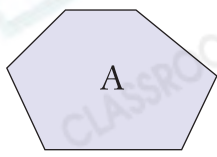
5. _____ 形



6. _____ 形



7. 觀察下面的平面圖形，寫出所有代表答案的英文字母。

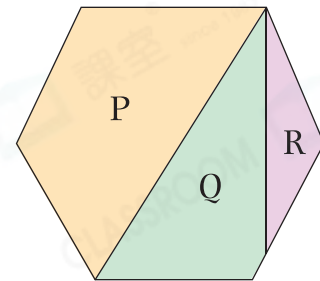


(a) 四邊形：_____

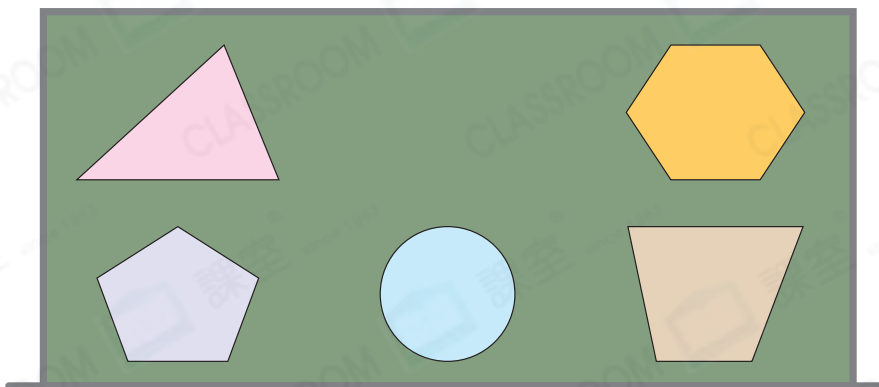
(b) 六邊形：_____

8. 右圖是由P、Q和R組成的六邊形，以下哪一項是正確的？

- A. P是四邊形，Q和R是三角形。
- B. P是五邊形，Q和R是三角形。
- C. R是三角形，P和Q是四邊形。
- D. R是三角形，P和Q是五邊形。



9. 老師把一些平面圖形貼在黑板上。



_____形在三角形的下面。

10. 右圖是由_____個四邊形和_____個_____形所組成。

