



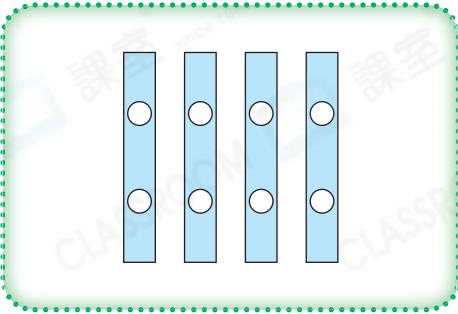
日期：_____

成績：_____



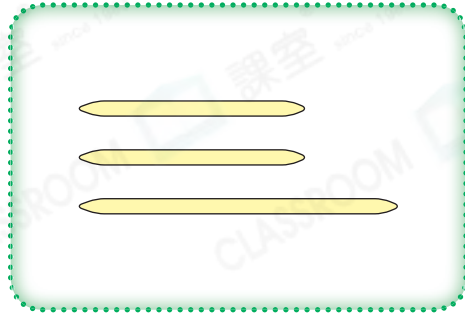
下列各組材料剛好可拼出哪種平面圖形？圈出答案。

1.




(圓形 / 四邊形)

2.




(三角形 / 四邊形)

3.



(四邊形 / 五邊形)

4.



(圓形 / 六邊形)



依以下步驟，可摺出哪種平面圖形？寫出它們的名稱。

5.



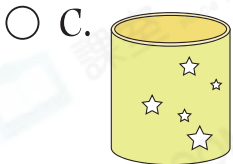
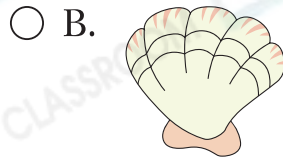
_____ 形

6.



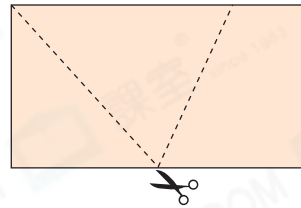
_____ 形

7. 以下哪一件物件可以用來輔助畫出一個圓形？




8. (a) 右圖是一個_____形。

(b) 沿着虛線把右面的圖形剪開後，可得到兩個_____形和一個_____形。

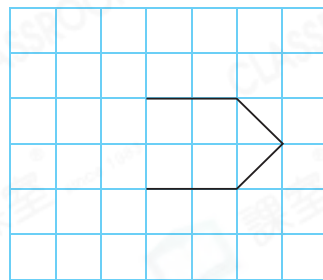


9. 加畫兩條直線，與原有的直線組成指定的平面圖形。

(a) 三角形



(b) 六邊形



10. (a) 圖形C是一個_____形。

(b) 圖形F和圖形_____可拼成一個三角形。

(c) 利用圖形A和G★能 / 不能 (★圈出答案) 拼出一個四邊形。

