



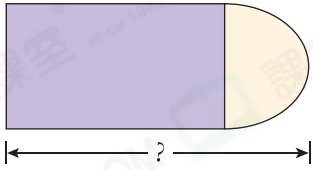
日期：_____

成績：_____



估計下列各物件的長度，再用厘米尺量度。

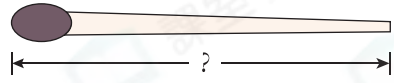
1.



估計長度：_____ cm

實際長度：_____ cm

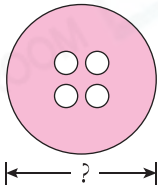
2.



估計長度：_____ cm

實際長度：_____ cm

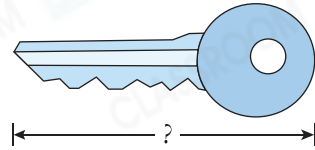
3.



估計長度：_____ cm

實際長度：_____ cm

4.




估計長度：_____ cm

實際長度：_____ cm



量一量。



5. 甲蟲 A 距離終點 _____ cm。

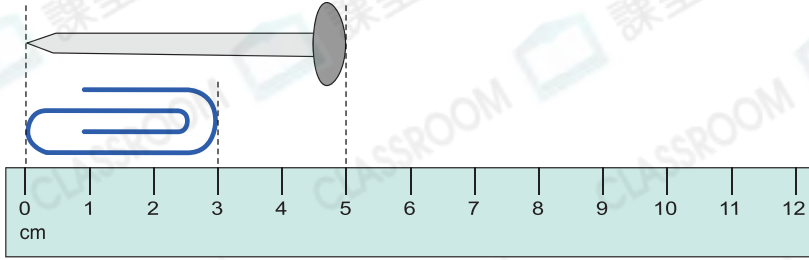
6. 甲蟲 B 距離終點 _____ cm。

7. 甲蟲 B 和甲蟲 C 相距 _____ cm。



STEM 百科

在中國古代，其中一位皇帝李世民將他的左右腳各走一步的距離訂為長度單位，稱為「步」。

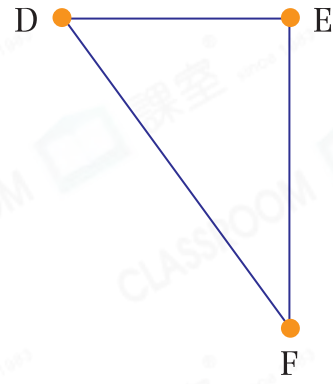
8.



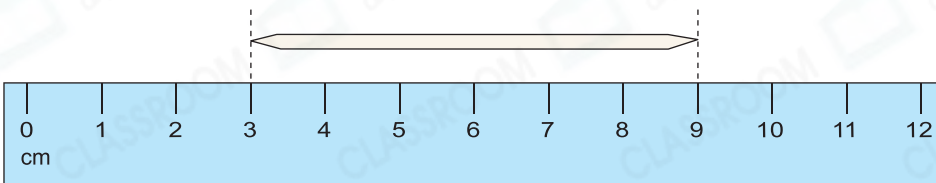
(a)  長 _____ 厘米。


(b)  比  短 _____ 厘米。

9. 在右面三點中，_____點和
_____點相距最遠，距離約
是_____cm。



10.



 長 _____。

(答案須寫上單位)

腦力挑戰站



詳盡提示

這條細繩的長度約是_____厘米。

