



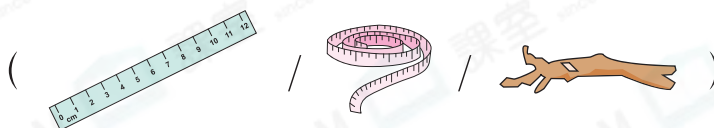
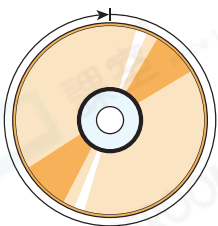
日期：_____

成績：_____

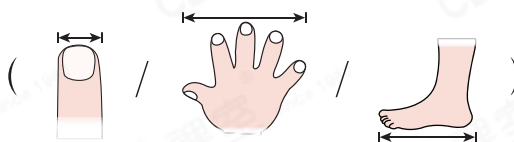
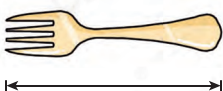


圈出適合的量度工具。

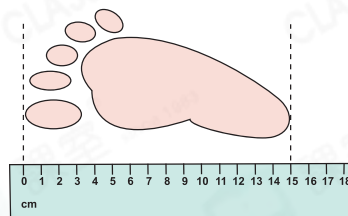
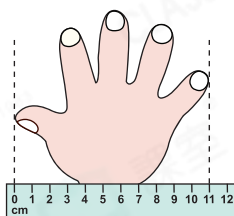
1.



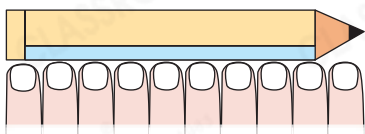
2.



量一量。




3.



鉛筆的長度約是：

$$1 + 1 + 1 + 1 + 1 + 1 + 1 + 1 + 1 + 1 = \underline{\hspace{2cm}} \text{ (cm)}$$


4.



風扇的闊度約是：

$$\underline{\hspace{2cm}} + \underline{\hspace{2cm}} + \underline{\hspace{2cm}} = \underline{\hspace{2cm}} \text{ (cm)}$$

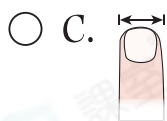
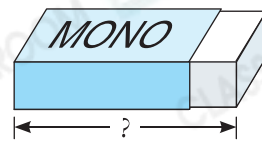
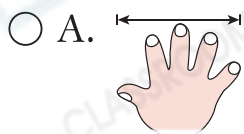
5.



雲石的長度約是：

$$\underline{\hspace{2cm}} = \underline{\hspace{2cm}} \text{ (cm)}$$

6. 以下哪一項最適合用來量度右面擦膠的長度？



7. 敏儀用指距 量度了家中各家具的長度，結果如下：

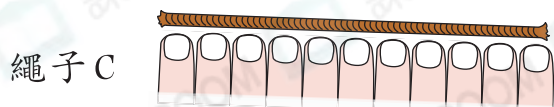
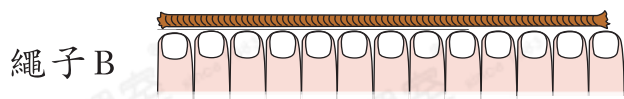
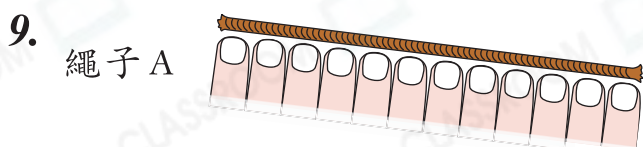
	長 10 個
	長 6 個

	長 4 個
	長 7 個

(a) 和 的長度相差 _____ 個 。

(b) 敏儀的指距是 。最短的家具長 _____ cm。

8. / 較適合用來量度圍繞人的大腿一圈的長度。(圈出答案)



比較上圖三條繩子的長度，最長的是繩子 A / B / C。(圈出答案)