

複習一

● 1 上課題



日期：_____



成績：_____ /17



時限： 20分鐘

範疇	評估重點	題目	得分
數	<ul style="list-style-type: none"> ◇ 20 以內的數 ◇ 奇數和偶數 ◇ 加法和減法 ◇ 0 的認識 	<ul style="list-style-type: none"> ◇ 次序和數量 ◇ 順數和倒數 ◇ 數的合成 	1-10 , 12(a) /14
圖形與空間	<ul style="list-style-type: none"> ◇ 位置 	<ul style="list-style-type: none"> ◇ 立體圖形 	11 , 12(b) /3



自我評估

13-17分



9-12分



0-8分



1. (a) 12 比 8 大 / 小 (圈出答案)。

(b) 在空格內填上適當的數字。

6 比 小。

2. 把下列各數由大至小排列出來。

20 , 12 , 17

答案：_____ , _____ , _____
(最大) (最小)

3.



(a) 上面共有 _____ 枚萬字夾。

(b) _____ 和 4 合成 _____。

4. $14 - 9 =$ _____

5. $7 + 5 =$ _____

6. $8 - 0 =$ _____

7. $3 + 6 =$ _____ $+ 3$

評分欄



1分



1分



1分



1分



1分



1分



1分



1分




1分

8. 圈出所有偶數。



9. 由10開始倒數，第三個數是_____。

10.



原有6隻小鳥，飛走2隻，餘下小鳥多少隻？（列式計算）

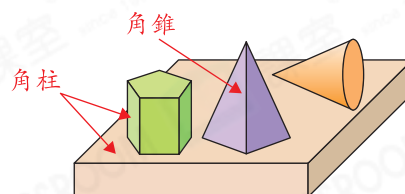
_____ ○ _____

= _____

餘下小鳥 _____ 隻。


11. (a) 右圖有_____個角柱。

(b) 右圖有_____個角錐。



12.



(a)  排第_____。

(b)  在  的_____面。

