

練習 9 - 15

範疇	評估重點	題目	得分
度量	<ul style="list-style-type: none"> <li>星期和日期</li> <li>香港的硬幣</li> <li>厘米</li> </ul>	1 - 10	/15
圖形與空間	<ul style="list-style-type: none"> <li>點、直線和曲線</li> <li>平面圖形</li> </ul>	11 - 15	/9

**自我評估**

19-24分 






13-18分 

0-12分 

1. 右圖顯示今天的日曆，明天是星期\_\_\_\_\_。



2. 以下是知味餐廳一星期的特價點心。

星期	日	一	二	三	四	五	六
點心							


今天的特價點心是 ，昨天是星期\_\_\_\_\_。

3.  不適合用來量度以下哪一件物件的長度？

A.



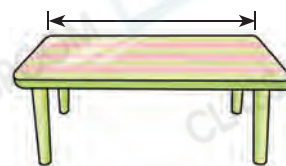
B.



C.



D.



評分欄



4.

四月						
日	一	二	三	四	五	六
	1	2	3	4	5	6
7	8	9	10	11	12	13
14	15	16	17	18	19	20
21	22	23	24	25	26	27
28	29	30				

(a) 四月的第二個星期日是\_\_\_\_\_月\_\_\_\_\_日。





(b) 可星逢星期三和星期六參加結他班，他四月份共有\_\_\_\_\_天參加結他班。



(c) 可星由四月十八日開始，一連三天因病住院，他缺席了\_\_\_\_\_月\_\_\_\_\_日的結他班。



5. (a) 1個  可換得\_\_\_\_\_個 。



(b) 1個  可換得\_\_\_\_\_個  和  
\_\_\_\_\_個 。



6. 以下是樂怡乘坐渡輪所付的費用：



(a) 她用了\_\_\_\_\_個1元硬幣付款。



(b) 她付了\_\_\_\_\_元\_\_\_\_\_角。




7.



兩盆盆栽相距\_\_\_\_\_厘米。

8. (a) 一件三文治售\_\_\_\_\_元\_\_\_\_\_角。



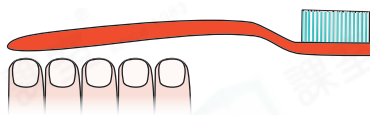
\$6.60

(b) 莎莉付 購買一件三文治。

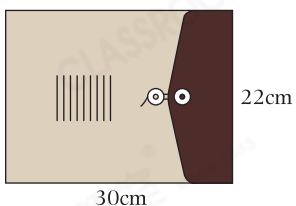
圈出店員須找回的金額。



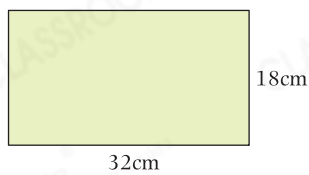
9. 牙刷約長\_\_\_\_\_個。



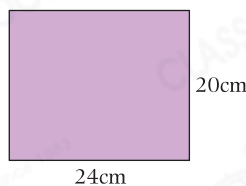
10.



紙袋



畫紙A



畫紙B

畫紙★ A / B (★圈出答案)能完全放進紙袋內。

11. 寫出以下各平面圖形的名稱。

(a)



\_\_\_\_\_形

(b)



\_\_\_\_\_形



12. 觀察下列的英文字母，並寫出所有答案。

K P O N B

列出：



(a) 只用直線組成的英文字母：\_\_\_\_\_

(b) 用曲線和直線組成的英文字母：\_\_\_\_\_

13. 畫出指定的平面圖形。

(a) 三角形

(b) 五邊形

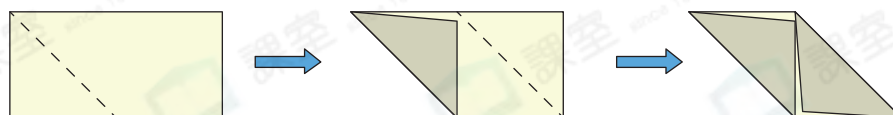


14.



小狗想沿直線去吃骨頭，在上圖中畫出牠行走的路線。

15.



志文把上面的手工紙沿虛線摺起來再打開，摺痕把手工紙分成一個\_\_\_\_\_形和兩個\_\_\_\_\_形。

剔一剔  
 完成所有題目  
 已檢查答案

