

應用題訓練一

○ 加法

○ 基本減法



日期：_____

成績：_____

1.

老師



1B班有20名男生和15名女生。


1B班有學生多少名？

$$\begin{array}{r} \underline{\quad\quad} \bigcirc \underline{\quad\quad} \\ = \underline{\quad\quad} \end{array}$$

1B班有學生 _____ 名。

圖解

男生	20名	} ?名
女生	15名	

2. 媽媽買了15件 ，吃了半打，還餘下  多少件？

$$\begin{array}{r} \underline{\quad\quad} \bigcirc \underline{\quad\quad} \\ = \underline{\quad\quad} \end{array}$$

還餘下  _____ 件。

提示

「半打」即有6件西餅。

3. 偉華吃了23粒 ，偉強比偉華多吃8粒。

(a) 偉強吃了  多少粒？

$$\begin{array}{r} \underline{\quad\quad} \bigcirc \underline{\quad\quad} \\ = \underline{\quad\quad} \end{array}$$

偉強吃了  _____ 粒。

圖解

偉華	23粒	} 8粒
偉強	?粒	


(b) 兩人共吃了 _____ 粒 。

4. 一輛旅遊巴士上有 36 名乘客，還餘 22 個空位，這輛旅遊巴士共可載乘客多少名？

$$\begin{array}{r} \underline{\quad\quad\quad} \bigcirc \underline{\quad\quad\quad} \\ = \underline{\quad\quad\quad} \end{array}$$

這輛旅遊巴士共可載乘客 名。

圖
解



5. 自修室有 46 張椅子，今天增加了 14 張椅子和 7 張桌子。

(a) 自修室現有椅子多少張？

$$\begin{array}{r} \underline{\quad\quad\quad} \bigcirc \underline{\quad\quad\quad} \\ = \underline{\quad\quad\quad} \end{array}$$

自修室現有椅子 張。


提示

現有的
= 原有的 + 增加的

(b) 增加的椅子比桌子多 張。

6. 志偉收集了 47 枚 ，比志傑少 28 枚，志傑收集了  多少枚？

$$\begin{array}{r} \underline{\quad\quad\quad} \bigcirc \underline{\quad\quad\quad} \\ = \underline{\quad\quad\quad} \end{array}$$

志傑收集了  枚。

提示

「比志傑少」即志傑收集的郵票數量比志偉的多。

7. 一箱粉筆，用了半箱，餘下 18 盒，這箱粉筆原有多少盒？

$$\begin{array}{r} \underline{\quad\quad\quad} \bigcirc \underline{\quad\quad\quad} \\ = \underline{\quad\quad\quad} \end{array}$$

這箱粉筆原有 盒。

提示

一箱 = 半箱 + 半箱