

# 應用題訓練二



日期：\_\_\_\_\_

成績：\_\_\_\_\_

○ 加法      ○ 減法


1.



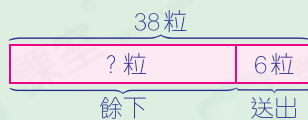
進威

我原有 38 粒 。


進威送給朋友 6 粒  後，還餘下  多少粒？

\_\_\_\_\_ ○ \_\_\_\_\_  
= \_\_\_\_\_  
還餘下  \_\_\_\_\_ 粒。

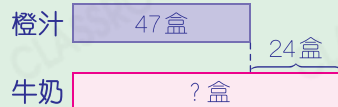
圖解



2. 便利店有 47 盒 ， 比  多 24 盒，便利店有  多少盒？

\_\_\_\_\_ ○ \_\_\_\_\_  
= \_\_\_\_\_  
便利店有  \_\_\_\_\_ 盒。

圖解



3.



比較一包牛丸和一包魚蛋的數量，相差多少粒？

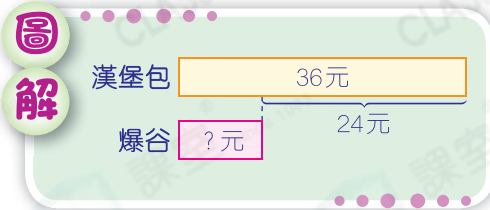
\_\_\_\_\_ ○ \_\_\_\_\_  
= \_\_\_\_\_  
相差 \_\_\_\_\_ 粒。

提示

先判斷哪個是被減數，哪個是減數。

4. 一個漢堡包售 36 元，一個漢堡包比一份爆谷貴 24 元。一份爆谷售多少元？

$$\begin{array}{r} \underline{\quad\quad} \bigcirc \underline{\quad\quad} \\ = \underline{\quad\quad} \\ \text{一份爆谷售 } \underline{\quad\quad} \text{ 元。} \end{array}$$



5. 下表是志欣三次數學測驗的成績。

測驗	第一次	第二次	第三次
成績	81 分		88 分

- (a) 志欣第三次數學測驗的成績比第二次退步了 4 分，她第二次數學測驗得了多少分？

$$\begin{array}{r} \underline{\quad\quad} \bigcirc \underline{\quad\quad} \\ = \underline{\quad\quad} \\ \text{她第二次數學測驗得了 } \underline{\quad\quad} \text{ 分。} \end{array}$$

**提示**

選出有用的數據，再判斷用加法還是減法。

- (b) 志欣第二次數學測驗的成績比第一次高            分。

6. 張太太買了兩盒雞蛋。

- (a) 她共買了            隻雞蛋。

- (b) 她付了 50 元，應找回多少元？



**提示**

留意關鍵字眼「兩盒特價」。

$$\begin{array}{r} \underline{\quad\quad} \bigcirc \underline{\quad\quad} \\ = \underline{\quad\quad} \\ \text{應找回 } \underline{\quad\quad} \text{ 元。} \end{array}$$