

練習 1 - 15

範疇	評估重點	題目	得分
數	<ul style="list-style-type: none"> <li>◇ 個位和十位</li> <li>◇ 認識21至100</li> <li>◇ 每2、5和10個一數</li> <li>◇ 加法</li> </ul>	1 - 11	/15
度量	<ul style="list-style-type: none"> <li>◇ 報時</li> <li>◇ 星期和日期</li> <li>◇ 厘米</li> <li>◇ 減法</li> <li>◇ 小時</li> <li>◇ 香港的硬幣</li> <li>◇ 永備尺</li> </ul>	12 - 19	/14
圖形與空間	<ul style="list-style-type: none"> <li>◇ 點、直線和曲線</li> <li>◇ 平面圖形</li> </ul>	20 - 25	/11

**自我評估**

31-40分 

21-30分 

1-20分 

1. 四個兩位偶數由大至小排列如下：

62 ,  ,  , 56

(最大)  (最小)

在空格內填上適當的數。

2. 用阿拉伯數字寫出「九十九」。

答案：\_\_\_\_\_

3.  $36 + 59 =$  \_\_\_\_\_

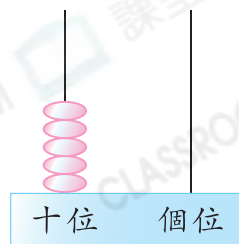
4.  $22 + 47 + 18 =$  \_\_\_\_\_

5.  $64 - 31 =$  \_\_\_\_\_

6. 在右圖算柱所表示的數裏，

(a) 個位數字是\_\_\_\_\_。

(b) 十位數字表示的數值是\_\_\_\_\_。



評分欄



1分



1分



1分



1分



1分



1分



1分

7. 依規律填數字。

(a) 36, 37, , 39, 40,


(b) 10, , 30, 40, , 60

8. 妹妹有 26 張書籤，哥哥送給她 15 張後，兩人有的書籤一樣多，哥哥現有書籤多少張？(列式計算)

哥哥現有書籤 \_\_\_\_\_ 張。

9. 媽媽付 75 元買一束玫瑰，應找回多少元？


答案：\_\_\_\_\_ 元



10.



32 元



68 元



50 元

德新有 95 元。

(a) 他買了一個最便宜的玩具後，餘下 \_\_\_\_\_ 元。

(b) 德新想用餘下的款項多買一個機械人給弟弟，他

★ 還欠 / 剩餘 (★ 圈出答案) \_\_\_\_\_ 元。

11. 一盒草莓共有 40 顆，子欣吃去 13 顆，子莉吃去 15 顆，她們共吃去草莓多少顆？

答案：\_\_\_\_\_ 顆



1分



1分



1分



1分



1分



1分



1分

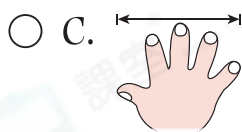
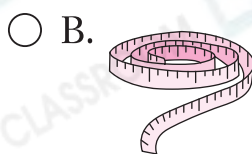
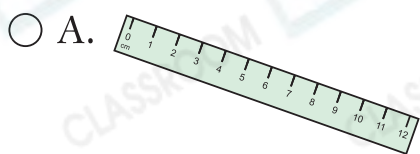


1分



1分

12. 下列哪一項最適合用來量度圍繞手臂一圈的長度？



13. 弟弟有以下的款項。



(a) 弟弟有 \_\_\_\_\_ 元 \_\_\_\_\_ 角。

(b) 弟弟把所有  兌換成  後，他共有 \_\_\_\_\_ 個  。

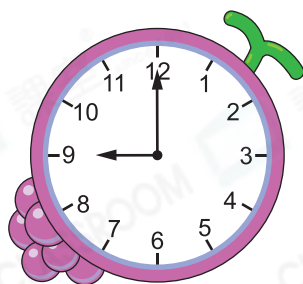


1分

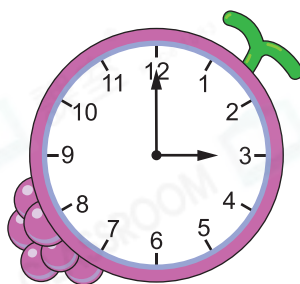


1分

14. 以下是表姊星期六兼職的上班時間和下班時間。



上班時間



下班時間

(a) 表姊在1時吃午餐，當時距離下班還有 \_\_\_\_\_ 小時。

(b) 表姊下班後立即回家，因路上塞車，她用了2小時才回到家，她回到家的時間是 \_\_\_\_\_ 。



1分



1分

15. 以下是曼語錢包內的所有款項。



(a) 曼語購買了一盒巧克力棒。圈出她應付的金額。

(b) 曼語購買一盒巧克力棒後，還餘下

\_\_\_\_\_元\_\_\_\_\_角。



16.

十月						
日	一	二	三	四	五	六
			1	2	3	4
5	6	7	☀	☀	☀	☀
12	13	14	15	16	17	18
19	20	21	22	23	24	25
26	27	28	29	30	31	

(a) 10月3日是星期\_\_\_\_\_。

(b) 這個月的最後一個星期六是浩然的生日，那天是\_\_\_\_\_月\_\_\_\_\_日。

(c) 王先生從10月7日開始休假三天，他將在\_\_\_\_\_月\_\_\_\_\_日恢復上班。

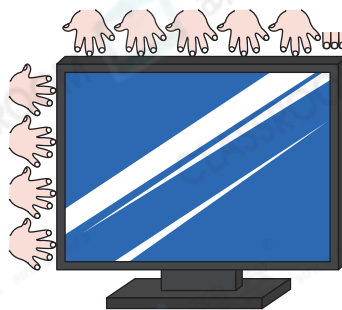
(d) 這個月共有\_\_\_\_\_個星期日。

17. 美食展由本星期五起，連續舉行10天，美食展最後一天是星期幾？

答案：星期\_\_\_\_\_

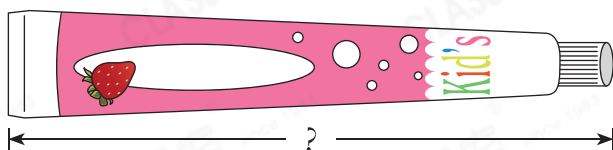


18. 每個  長 12cm，每個  長 1cm。電視機的長和闊相差 \_\_\_\_\_ cm。



1分

19. 用尺子量度下圖兒童牙膏的長度。



兒童牙膏的長度是 \_\_\_\_\_。(答案須寫上單位)

1分

20.



A



B



C

根據下表對上面各圖案的描述，把代表圖案的英文字母寫在橫線上。

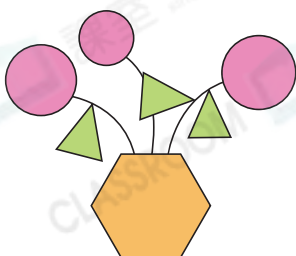
	直線	曲線
(a) 圖案 _____	X	✓
(b) 圖案 _____	✓	X
(c) 圖案 _____	✓	✓

1分

1分

1分

21.



軒文用不同的平面圖形拼砌了一幅畫。

(a) 左圖有 \_\_\_\_\_ 個圓形。

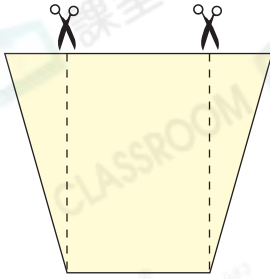
(b) 左圖有 \_\_\_\_\_ 個六邊形。

1分

1分

1分

22.



沿着虛線把左面的手工紙剪開後，  
可得到一個\_\_\_\_\_形和兩個  
\_\_\_\_\_形。



1分



1分

23. 右圖是哪一種平面圖形？

- A. 三角形
- B. 四邊形
- C. 五邊形
- D. 六邊形



1分


24. 根據指示畫出指定的線。

(a) 畫出2條經過兩點的曲線



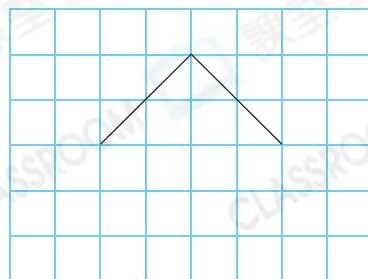
1分

(b) 畫出1條經過兩點的直線



1分

25. 在右圖中加畫直線，與原有的直線組成一個五邊形。



1分



剔一剔

- 完成所有題目
- 已檢查答案