

第一次小測 (1下數學科)

姓名：

日期：

班別： ()

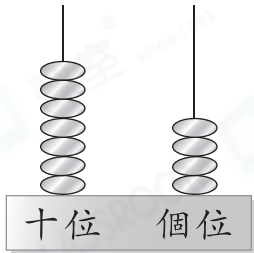
成績： /20

時限： 15分鐘

(範圍：練習1-4)

一、填一填。(4分)

1.



寫作：_____

讀作：_____


2.



「4」在_____位，表示

的數值是_____。

二、圈一圈，填一填。(6分)


1. 每2個一組圈起來，共有_____個 。



2. 每5個一組圈起來，共有_____個 。



3. 每10個一組圈起來，共有_____個 。



三、算一算。(4分)

1. $33 + 22 =$ _____

2. $16 + 48 =$ _____

3. $5 + 41 + 25 =$ _____

4. $28 + 13 + 57 =$ _____

四、列式計算下列各題。(6分)

1. 家裏原有 8 卷 ，媽媽再買回 16 卷，家裏現有  多少卷？

家裏現有  _____ 卷。

2. 哥哥有 16 枝筆，妹妹比哥哥多 14 枝，妹妹有筆多少枝？

妹妹有筆 _____ 枝。

3. 活動室有 20 個羽毛球，比乒乓球少一打，乒乓球有多少個？

乒乓球有 _____ 個。