

# 第二次小測 (1下數學科)

姓名：

日期：

班別：  ( )

成績：  /15

時限： 15分鐘

(範圍：練習5-8)

## 一、算一算。(4分)

$$\begin{array}{r} 47 \\ - 3 \\ \hline \square \end{array}$$

$$\begin{array}{r} 95 \\ - 63 \\ \hline \square \end{array}$$

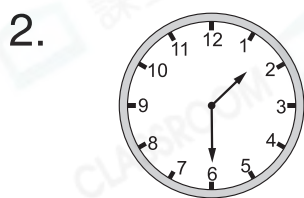
3.  $36 - 5 =$  \_\_\_\_\_

4.  $64 - 54 =$  \_\_\_\_\_

## 二、回答下列各題。(3分)

1. 右圖鐘面顯示的時間是

\_\_\_\_\_。



2. 左圖鐘面顯示的是現在的時間，1小時後是\_\_\_\_\_。

3. 以下是宇峰進入和離開公園的時間。



宇峰在公園逗留了\_\_\_\_\_小時。



### 三、列式計算下列各題。(8分)

1. 一箱梨，吃了16個，還餘下24個。這箱梨原有多少個？

這箱梨原有 \_\_\_\_\_ 個。

2. 老師有64張書籤，她送出23張後，還有書籤多少張？

還有書籤 \_\_\_\_\_ 張。

3. 小欣要摺59顆 ，昨天摺了13顆，今天摺了27顆，她昨天比今天少摺  多少顆？

她昨天比今天少摺  \_\_\_\_\_ 顆。

4. 船上有39名女乘客，比男乘客少18名，男乘客有多少名？

男乘客有 \_\_\_\_\_ 名。