

複習二

● 1 上課題



日期：_____



成績：_____ /15



時限： 20分鐘

範疇	評估重點	題目	得分
數	◇ 0的認識 ◇ 加法和減法 ◇ 數的合成 ◇ 順數和倒數	1 - 8	/10
度量	◇ 長度和距離	9 - 10	/3
圖形與空間	◇ 位置	11	/2



自我評估

12-15分



8-11分



0-7分



1. $9 + 0 = \underline{\hspace{2cm}} + 9$

2. $5 - 5 = \underline{\hspace{2cm}}$

3. $7 + 6 = \underline{\hspace{2cm}}$

4. $12 - 8 = \underline{\hspace{2cm}}$

5. 9和下列哪一個數合成16?

A. 2

B. 7


C. 8

D. 9

6. 家裏原有一排 ，喝了4瓶，餘下多少瓶？

答案：_____ 瓶

7. 服裝店售出5頂  和8頂 ，共售出帽子多少頂？(列式計算)

_____  _____
= _____

共售出帽子 _____ 頂。

評分欄



1分



1分



1分



1分



1分



1分



1分



1分

8. 依規律寫數字。

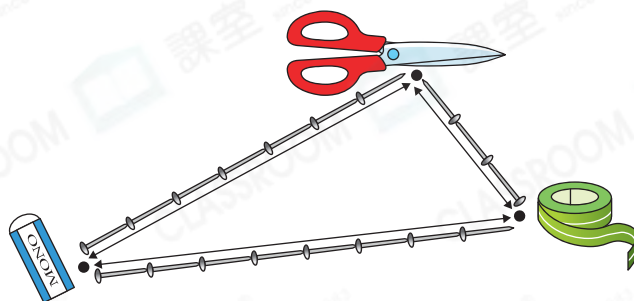
(a) 3, 4, 5, _____, _____, _____


(b) _____, _____, 14, _____, 12, 11

1分

1分

9.



(a)  和  相距 _____ 個 。

(b) 哪兩件物件之間的距離最遠？

答案：★  /  / 

(★ 圈出答案)

1分

1分

10. 比較飲管 A、B 和 C 的長度，把它們由長至短排列出來。寫出代表答案的英文字母。

飲管 A 

飲管 A 


飲管 B 

飲管 C 

答案：_____ , _____ , _____
(最長) (最短)

1分

11.



(a)  在 ★  / 

(★ 圈出答案) 的下面。

(b)  在  的 _____ 面。

1分

1分