

第三次小測 (1下數學科)

姓名：

日期：

班別： ()

成績： /12

時限： 15分鐘

(範圍：練習9－11)

一、填一填。(3分)

四月						
日	一	二	三	四	五	六
			1	2	3	4
5	6	7	8	9	10	11
12	13	14	15	16	17	18
19	20	21	22	23	24	25
26	27	28	29	30		

1. 這個月的第一天是星期_____。
2. 今天是4月11日，一個星期後是_____月_____日。
3. 媽媽由四月十日至四月十三日休假。她共休假_____天。

二、圈出指定金額的硬幣。(2分)

1. 10元



2. 6元2角








三、回答下列各題。(7分)

1. 以下是爸爸一星期的運動安排。

星期	日	一	二	三	四	五	六
運動	跑步	/	足球	/	/	游泳	/

爸爸昨天踢足球，那麼明天是星期_____。

2. (a) 1個  可換得_____個  。

(b) 2個  和1個  可換得_____個  。

3. (a) 一罐可樂的售價是多少？

答案：_____元_____角



(b) 玲玲買一罐可樂。圈出她應付的金額。



4.



P



Q



R



S

觀察上圖，寫出所有代表答案的英文字母。

(a) 只由曲線組成：_____

(b) 由直線和曲線組成：_____