

第四次小測 (1下數學科)

姓名：

日期：

班別： ()

成績： /16

時限： 15分鐘

(範圍：練習 12 - 15)

一、量一量。(4分)

1. _____ cm 

2. _____ cm 

3. _____ cm 

4. 以上三條繩子中，最長和最短的相差 _____ cm。

二、畫一畫。(4分)

1. 四邊形



2. 五邊形



3. 三角形




4. 六邊形



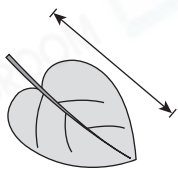
三、回答下列問題。(8分)

1.

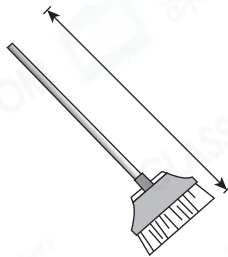


上面的鉛筆長_____厘米。


2.



A



B

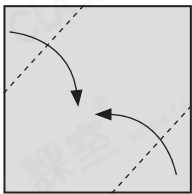


C



最適合用來量度上面物件_____的長度。

3.




把左圖沿着虛線摺起來，可以摺出一個_____形。

4. 志傑用平面圖形拼砌了一幅畫。

(a) 右圖有_____個圓形。

(b) 右圖有_____個三角形。



5. (a) 右圖是一個_____形。

(b) 沿虛線剪開後，可得到_____形和_____形。

