

2

認識21至100



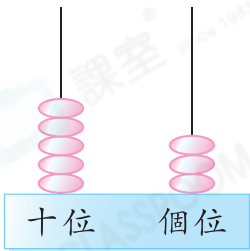
日期：_____

成績：_____



填一填。

1.

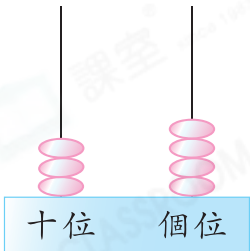


(a) 十位有 _____ 粒算珠，表示 _____ 。

(b) 個位有 _____ 粒算珠，表示 _____ 。

(c) 讀作：_____

2.



(a) 十位有 _____ 粒算珠，表示 _____ 。

(b) 個位有 _____ 粒算珠，表示 _____ 。

(c) 讀作：_____

3.



(a) 「4」在 _____ 位，表示 _____ ；

(b) 「7」在 _____ 位，表示 _____ ；

(c) $47 = \underline{\quad\quad} + \underline{\quad\quad}$

4.



(a) 「2」在 _____ 位，表示 _____ ；

(b) 「1」在 _____ 位，表示 _____ ；

(c) $21 = \underline{\quad\quad} + \underline{\quad\quad}$ 

圈一圈。

5. 56 (大於 / 小於) 19

6. 41 (大於 / 小於) 50

7. 79 (大於 / 小於) 73

8. 86 (大於 / 小於) 89

9. 下列哪一組數是倒數？

○ A. 22, 23, 24, 25

○ B. 33, 32, 40, 39

○ C. 50, 52, 54, 56

○ D. 90, 89, 88, 87

10. 把三個兩位奇數由小至大排列如下：

53 , , 75
(最小) (最大)

空格裏的數可能是：

○ A. 49

○ B. 57

○ C. 60

○ D. 81

11. 由20順數至40，共有奇數多少個？

答案：_____個

12.



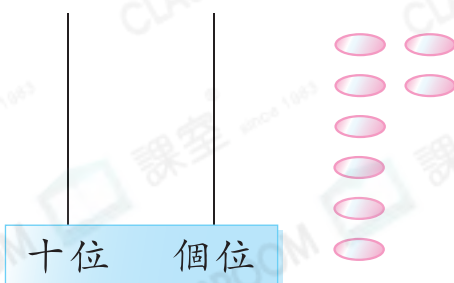
選用以上其中兩個數字排出指定的兩位數。

(a) 最大的兩位數是_____。

(b) 最小的兩位偶數是_____。

13. 比最大的兩位數多1的數是_____。

14.



把8粒算珠放在算柱上，以表示出一個比59大的奇數，把答案畫在算柱上。



個位數字是1, 3, 5, 7
或9的數都是奇數；
個位數字是0, 2, 4, 6
或8的數都是偶數。



留意關鍵字眼「最大」、
「最小」及「偶數」。



十進位制由0-9這10個數字組成，滿十進一。中國是世界上最先使用十進位制記數法的國家。