

4

加法



日期：_____

成績：_____



算一算。

$$\begin{array}{r} 1. \quad 43 \\ + 21 \\ \hline \end{array}$$

$$\begin{array}{r} 2. \quad 19 \\ + 67 \\ \hline \end{array}$$

$$\begin{array}{r} 3. \quad 36 \\ 13 \\ + 34 \\ \hline \end{array}$$

4. $48 + 31 =$ _____

5. $66 + 17 =$ _____

6. $11 + 24 + 9 =$ _____

7. $57 + 12 + 28 =$ _____

8. $33 + 25 + 17 =$ _____



加油站

計算三個數的加法時，可以把和是整十的兩個數先相加，使計算更便捷。

例 $3 + 26 + 14$ 或 $3 + 26 + 14$
 $= 29 + 14$ $= 3 + 40$
 $= 43$ $= 43$



列式計算下列各題。

9. 一箱蘋果有26個，爸爸買了兩箱蘋果，共得蘋果多少個？



共得蘋果：_____ = _____ (個)

10. 停車場一樓有42輛汽車，二樓有35輛汽車，即共有汽車多少輛？



共有汽車：_____ = _____ (輛)

11. 巴士上原有37人，到站後有34人上車，但沒有人下車，現在巴士上共有多少人？



現在巴士上共有：_____ = _____ (人)

12. 下列哪一道算式的結果與其他的不同？

A. $15 + 33 + 47$

B. $33 + 47 + 15$

C. $15 + 80$




D. $38 + 47$

13. 在空格內填上正確的數字。

$$\begin{array}{r} \text{(a)} \quad \quad 7 \quad 2 \\ + \quad \square \quad 8 \\ \hline \quad 9 \quad \square \end{array}$$

$$\begin{array}{r} \text{(b)} \quad \quad \square \quad 6 \\ + \quad 2 \quad \square \\ \hline \quad 8 \quad 5 \end{array}$$

14. 妙可今年9歲，比媽媽小30歲，媽媽今年_____歲。

15. 姊姊有36枝 ，妹妹有18枝 。姊姊給了妹妹12枝後，妹妹有  多少枝？(列式計算)

妹妹有  _____ 枝。

16. 文軒每天喝一盒牛奶，7天後餘下41盒牛奶，即原有 _____ 盒牛奶。

 17.
進階

班別	1A	1B	1C
學生人數	29	25	27

(a) 人數較多的兩個班共有 _____ 人。

(b) 旅遊巴士有53個座位，足夠給哪兩個班的所有學生入座？

答案：_____ 班和 _____ 班