

5

減法



日期：_____

成績：_____



計算下列各題，並用加法驗算。

$$\begin{array}{r} 1. \quad 19 \\ - \quad 6 \\ \hline \end{array}$$

驗算

$$\begin{array}{r} 2. \quad 78 \\ - \quad 16 \\ \hline \end{array}$$

驗算



加油站

用直式計算減法時，首先個位相減，然後十位相減。

例 $54 - 23 = 31$

$$\begin{array}{r} 54 \leftarrow \text{被減數} \\ - 23 \leftarrow \text{減數} \\ \hline 31 \leftarrow \text{差} \end{array}$$



計算下列各題。

3. $76 - 4 =$ _____

4. $95 - 65 =$ _____

5. $43 - 11 =$ _____



6. $88 - 84 =$ _____

7. $57 - 24 =$ _____

8. $69 - 56 =$ _____







列式計算下列各題。

9. 超級市場有 46 個 ，售出 5 個後，還有  多少個？
 還有  : _____ = _____ (個)

10. 媽媽買了 18 隻雞蛋和一打鴨蛋。雞蛋比鴨蛋多幾隻？

 雞蛋比鴨蛋多 : _____ = _____ (隻)

11. 文具店有 37 枝  和 4 枝 ， 比  少幾枝？

A. 32 枝

B. 33 枝

C. 34 枝

D. 35 枝

12. 如果 $59 - \text{🌸} = 40$ ，那麼 $\text{🌸} = \underline{\hspace{2cm}}$ 。

13. 家中原有下面的餃子和湯圓各一包。



(a) 吃了 10 個餃子後，剩下 個餃子。

(b) 現在，湯圓比餃子 \star 多 / 少 (\star 圈出答案) 個。

14. 數學測驗有 36 題，玉婷 答錯了 5 題，她答對了多少題？(列式計算)

她答對了 題。

15. 一盒草莓，吃了 8 顆，餘下 36 顆。做蛋糕用了 12 顆，還剩下草莓多少顆？

答案： 顆

 16. 最大的兩位數和最大的一位數相差 。

進階