

7

銳角和鈍角



日期：_____

成績：_____



寫出下列各平面圖形中各種角的數量及名稱。

1.



_____ 個 _____ 角
 _____ 個 _____ 角

2.



_____ 個 _____ 角
 _____ 個 _____ 角

3.



_____ 個 _____ 角
 _____ 個 _____ 角

4.




_____ 個 _____ 角
 _____ 個 _____ 角




畫出指定的角。

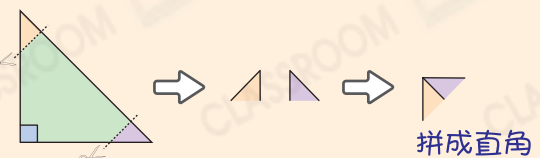
5. 銳角



6. 鈍角




如果一個三角形有一個角是直角，其餘兩個角也可拼成直角。




拼成直角

7. 直角

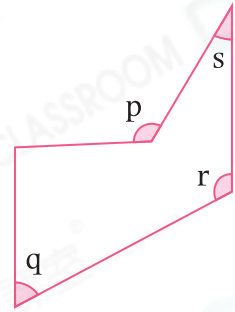


8. 右圖時鐘顯示現在的時間，2小時後，
時針和分針會形成一個_____角。



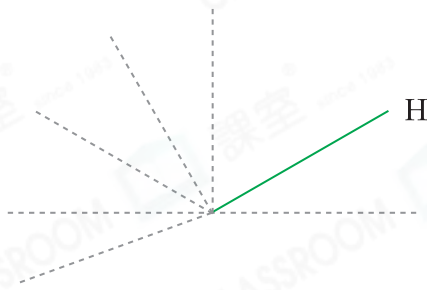
9. 觀察右圖，下列哪些描述是正確的？寫出所有代表答案的英文字母。

- A. 角q和角s是銳角。
- B. 角q比角r大。
- C. 角p和角r都比直角大。
- D. 角q是最小的。



答案：_____

10. 在下圖中，沿着虛線畫出一條直線，使它與直線H形成一個銳角。



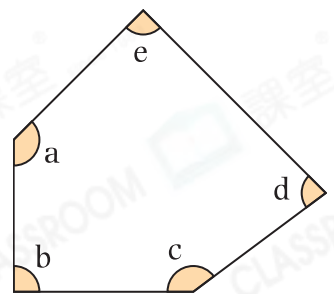
得分重點

- ⊗ 留意所畫角的類別。
- ⊗ 用直尺輔助畫直線。

11. (a) 右圖共有_____個銳角。

(b) 角b是一個_____角。

(c) 角a和角c都比直角★大 / 小 (★圈出
答案)，它們都是_____角。



12. 在下圖中畫出一個比角t小的鈍角。

