

8

米



日期：\_\_\_\_\_

成績：\_\_\_\_\_

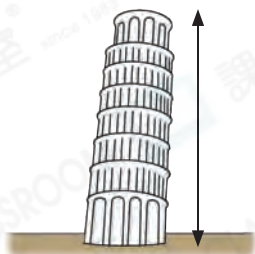


根據實物，選擇適當的長度單位：m或cm，填在🍏內。

1.




2.



3.



4.



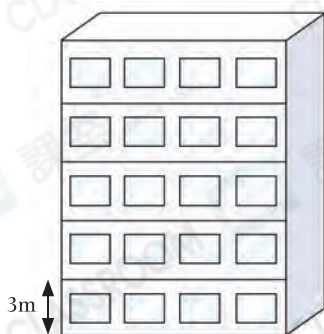
填上正確的答案。

5. 300 厘米 = \_\_\_\_\_ 米

6. 7 米 = \_\_\_\_\_ 厘米

7. 5 米 3 厘米 = \_\_\_\_\_ 厘米

8.



大廈約高 \_\_\_\_\_ 米。

9.



櫃子約長 \_\_\_\_\_ 米。

世界三大高峰：

1. 珠穆朗瑪峰(中國和尼泊爾交界)：8844 米
2. 喬戈里峰(中國和巴基斯坦交界)：8611 米
3. 干城章加峰(中國和尼泊爾交界)：8586 米

10. 小型巴士車身約長 600 <sup>☆</sup> 米 / 厘米 ( <sup>☆</sup> 圈出答案 )。

11. 以下哪一種工具最適合爸爸用來量度衣櫃的高度？

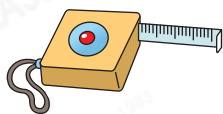
A. 肘距



B. 步距



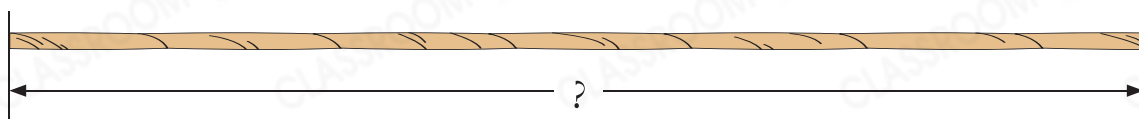
C. 捲尺



D. 滾輪



12. 用直尺量度繩子的長度。



(a) 上面的繩子長 \_\_\_\_\_ 厘米。

(b) 它與另一條長 1 米的繩子共長 \_\_\_\_\_ 厘米。

13.



(a) 距離木馬最近的地方是 \_\_\_\_\_。

(b) 美兒由滑梯出發，直接走到噴水池，再走到涼亭，共走了 \_\_\_\_\_ 米。

(c) 從滑梯前往長椅，最短的路程要走 \_\_\_\_\_ 厘米。