



日期：_____

成績：_____ /31

時限： 30分鐘

練習 1-8

範疇	評估重點	題目	得分
數	<ul style="list-style-type: none"> 三位數 每20、25、50、100個一數 加法和減法 	1-12	/18
度量	<ul style="list-style-type: none"> 米 	13-15	/5
圖形與空間	<ul style="list-style-type: none"> 角 垂直線 	16-20	/8

自我評估

24-31分

16-23分

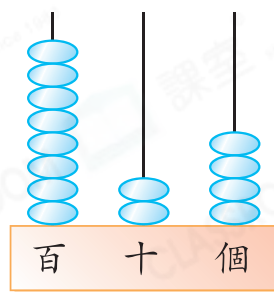
0-15分

1. 在右圖算柱所表示的數中，

(a) 十位數字是_____。

(b) 百位數字是_____，

代表的數值是_____。



評分欄



2. 把三個三位數由大至小排列如下：

, 560 , 326
 (最大) (最小)

以下哪一個是空格裏的數字？

A. 319

B. 380

C. 456

D. 583

3. $266 + 87 =$ _____

4. $238 + 197 + 62 =$ _____

5. $71 - 23 =$ _____

6. $82 - 35 - 19 =$ _____



7. 文輝有69元，買文具用了52元，剩下_____元。



8. 美華每月儲蓄50元，半年後她共儲蓄了_____元。



9. 學校禮堂現有250名男同學、127名女同學和51名老師，禮堂現共有_____人。




10.

青馬大橋一日遊

名額：50個

日期：7月18日

費用：188元（包車費和午餐）



現在已有38人報名參加青馬大橋一日遊，還餘名額多少個？（列式計算）



11. 爸爸買了右面的書櫃。

(a) 爸爸把100本圖書擺放在書櫃裏，每層的圖書數量相同，即每層擺放了_____本圖書。



(b) 媽媽從每層各取走5本圖書後，書櫃裏還有_____本圖書。



12. 花店昨天賣出了367枝花，今天比昨天多賣出255枝。
花店今天賣出了花多少枝？(列式計算)

Blank area for writing the answer to Question 12.

13. 以下哪一項最適合用來量度牀的長度？

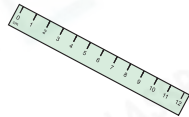
A. 拇指的闊度



B. 步距



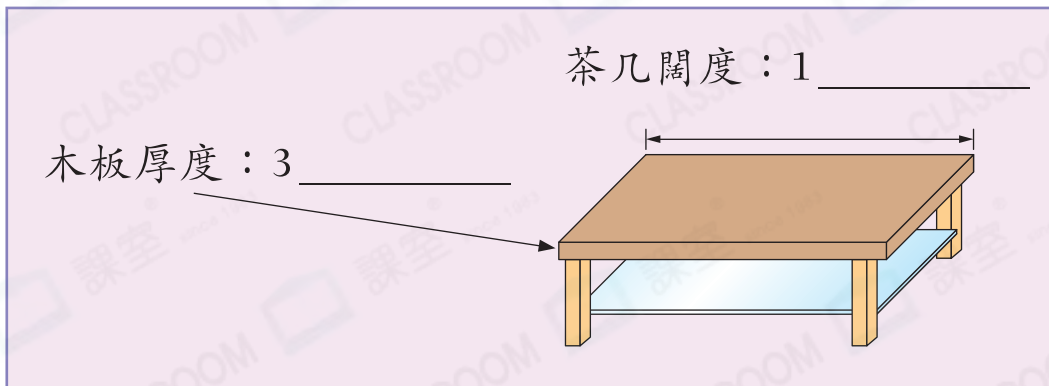
C. 厘米尺



D. 捲尺



14. 媽媽到家具店訂造一張茶几。在橫線上填寫適當的度量單位。



15. (a) 卓敏的身高是1米9厘米，她

★ 能 / 不能 (★ 圈出答案)

玩動感快車。

(b) 卓庭的身高超過玩動感快車的

最低身高要求11厘米，他的身

高是 _____ 厘米。

動感快車

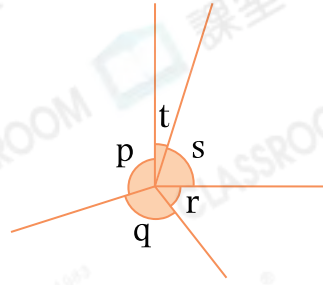
參加者身高須在
140厘米或以上！

16. 右圖中，

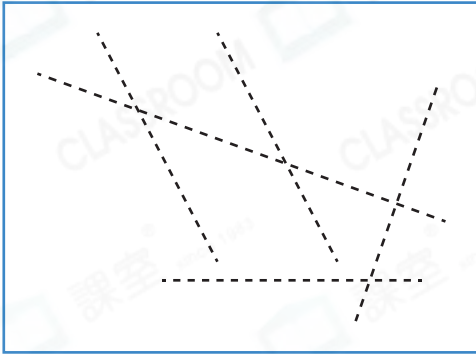
(a) 角 \star p / q / r / s 是鈍角。

(\star 圈出所有答案)

(b) 最大的銳角是角 _____。



17.



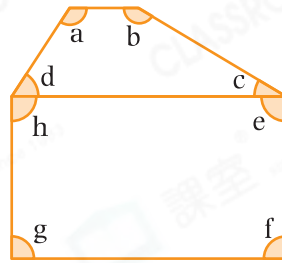
在左圖中沿虛線畫出一組垂直線。

18. 右圖中，


(a) 共有 _____ 個直角。

(b) 角 d 是 _____ 角。

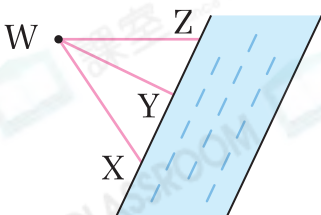
(c) 角 _____ 和角 _____ 比角 e 大。



19. 在以下方格紙上畫出一個比角 M 小的角。



20.



從農莊 W 到河邊有 WX、WY 和 WZ 三條小路，最短的小路是 _____。



別一別

- 完成所有題目
- 已檢查答案