



日期：_____

成績：_____



在 _____ 上填寫答案。

1.



20 分鐘後

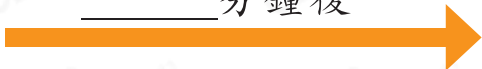


_____ 時 _____ 分

2.



_____ 分鐘後



3.



15 分鐘後

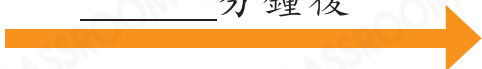


_____ 時 _____ 分

4.



_____ 分鐘後



完成下表。

活動	開始時間	時長	結束時間
5. 做家課	10:00 a.m.	48 分鐘	
6. 看電視	11:32 a.m.	30 分鐘	
7. 踢球	3:55 p.m.		4:45 p.m.
8. 閱讀	8:40 p.m.		9:15 p.m.

9. 學林在  進入圖書館。

(a) 學林進入圖書館的時間是☆ 上午 / 下午 (☆ 圈出答案)

_____ 時 _____ 分。

(b) 學林在  離開圖書館，他在圖書館共逗留了

_____ 分鐘。

10. 數學測驗於 9:30 a.m. 開始，限時 45 分鐘。數學測驗會在

_____ 午 _____ 時 _____ 分結束。

11. 以下兩個鐘面顯示書法班上課和下課的時間。


上課時間



下課時間

(a) 現在是 10 時 8 分，書法班還有 _____ 分鐘才開始。

(b) 書法班遲了 5 分鐘下課，即實際在 _____ 時 _____ 分下課。

 **進階** 12. 渡輪每天 6:30 a.m. 開出第一班，其後每 8 分鐘開出一班。李小姐在上午 7 時 3 分到達碼頭，她最少要等候 _____ 分鐘才可乘搭下一班渡輪。

腦力挑戰站



詳盡提示

右圖顯示的時間，最少要過 _____ 分鐘，時針和分針將會形成一個直角。

