

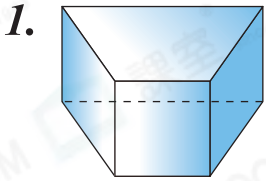


日期：_____

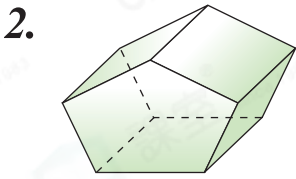
成績：_____



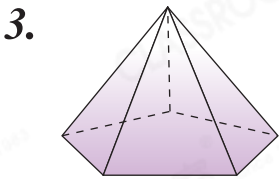
連一連。



五角柱




五角錐



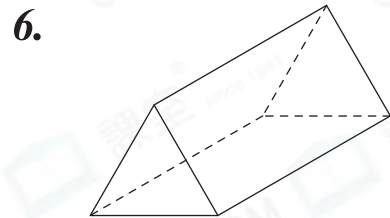
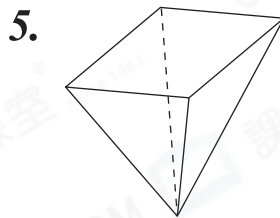
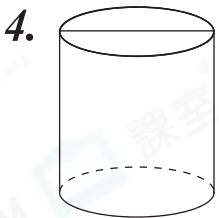
四角柱

STEAM 百科

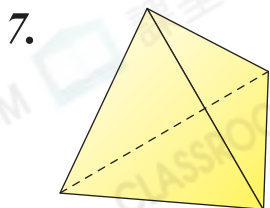
埃及的金字塔是一個四角錐，它的底是一個四邊形，底的四條邊都分別準確地向着東、南、西、北四個方向。



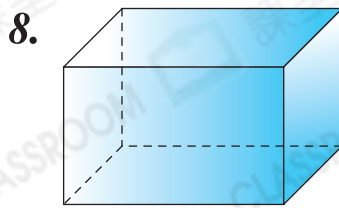
把立體圖形的所有底填上顏色。



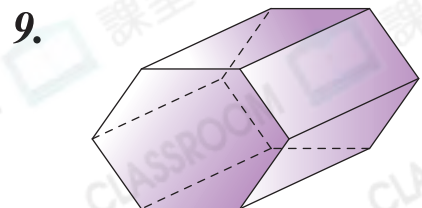
寫出下面各立體圖形面的數量。



_____ 個



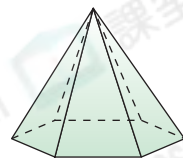
_____ 個



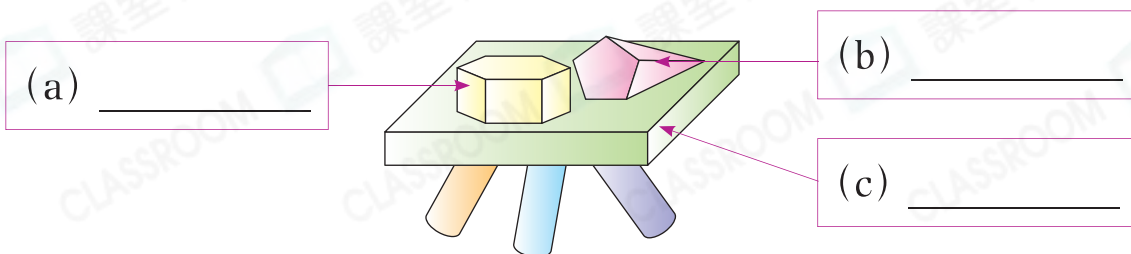
_____ 個

10. (a) 右圖是一個☆六角柱 / 六角錐 (☆圈出答案)。

(b) 它有_____個面，側面都是_____形。



11. 下面的擺設是由立體圖形組成。在空格內寫上它們的名稱。



12.



根據表中的描述，把代表以上各物件的英文字母寫在橫線上。

	只有一個面	側面是曲面	側面是四邊形	底是四邊形	底是圓形
(a) 物件 _____	X	X	✓	✓	X
(b) 物件 _____	✓	X	X	X	X
(c) 物件 _____	X	✓	X	X	✓

13. 一個立體圖形有8個面，它可能是什麼立體圖形？

答案：_____或_____

腦力挑戰站



詳盡提示

右圖是一個四角柱紙盒子的各個面，當中遺失了兩個面，在右圖中畫出遺失的兩個面的形狀。

