

複習一

● 1上至1下課題



日期：_____



成績：_____ /17



時限： 20分鐘

範疇	評估重點	題目	得分
數	<ul style="list-style-type: none"> ◇ 100以內的數 ◇ 加法和減法 	1-7	/8
度量	<ul style="list-style-type: none"> ◇ 香港的硬幣 ◇ 長度和距離 	8-9	/4
圖形與空間	<ul style="list-style-type: none"> ◇ 直線和曲線 ◇ 平面圖形 	10-11	/5



自我評估

13-17分



9-12分



0-8分



評分欄



1分



1分



1分



1分



1分



1分



1分



1分

1. 在29這個數中，

(a) 十位數字是_____，個位數字是_____。

(b) 數字「2」所代表的數值是_____。

2. $85 - 12 =$ _____

3. $34 + 18 + 42 =$ _____

4. $8 +$ _____ $= 9 + 8$

5. 二甲班同學一起到西貢宿營，下面是他們所訂的房間號碼，男生入住的房間號碼是偶數。把所有的男生房間號碼圈出來。



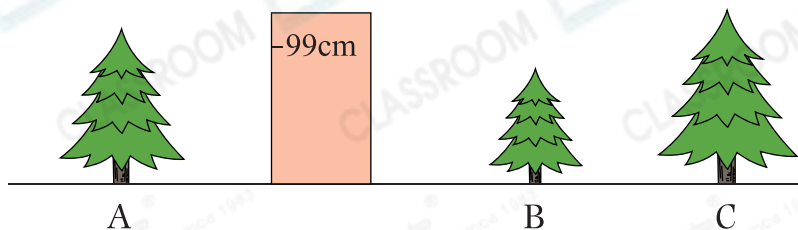
6. 哥哥有25粒波子，比弟弟少15粒，弟弟有波子多少粒？

○ A. 10粒 ○ B. 15粒 ○ C. 25粒 ○ D. 40粒

7. 健兒今年7歲，爸爸今年38歲，他們相差多少歲？

答案：_____歲

8. 爸爸打算買一棵不高於 99cm 的聖誕樹。



- (a) 爸爸只可以買聖誕樹 _____。
- (b) 距離聖誕樹 A 較遠的是聖誕樹 _____。

9. 以下是小麗的零用錢。



- (a) 小麗有 _____ 元 _____ 角。
- (b) 小麗買一包薯片，在上圖圈出應付的款項。







10. 右圖是由哪些平面圖形所組成？

答案：它是由 _____ 形、 _____ 形和 _____ 形所組成。



11. 觀察下面各平面圖形。

- (a) 右圖由  直線 / 曲線 組成。
( 圈出所有答案)
- (b) 右圖由  直線 / 曲線 組成。
( 圈出所有答案)



1分



1分



1分



1分



1分



1分



1分



1分



1分