

應用題訓練一



日期：_____

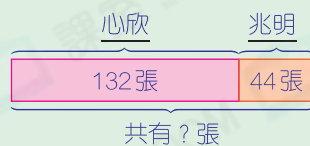
成績：_____

○ 加法 ○ 減法

1. 心欣有 132 張貼紙，兆明有 44 張貼紙，二人共有貼紙多少張？



圖解



2. 原有 90 個碗，打破了 6 個。賣出 28 個後，餘下完好的碗多少個？



提示

餘下完好的碗
= 原有的 - 打破的 - 賣出的

3.



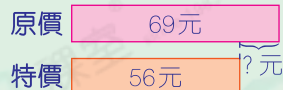
家樂遊樂場

成人門票	\$115
小童門票	\$69

(a) 小童門票現以特價 56 元出售，比原價便宜了多少元？



圖解



(b) 買三張成人門票，共須付_____元。

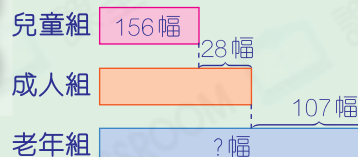
4. 陳太太有 73 個印花，比李太太多 15 個，李太太有印花多少個？

提示

留意字眼「比李太太多」，即陳太太的印花數量較多。

5. 攝影比賽中，兒童組有 156 幅參賽作品，比成人組少 28 幅，老年組比成人組多 107 幅。老年組有參賽作品多少幅？

圖解



6.	鮮花	黃玫瑰	百合	太陽花	紅玫瑰
	數量(枝)	27	35	46	90

比較兩種玫瑰的數量，相差多少枝？

提示

先找出題目要求的花，再用較大的數減去較小的數。

7. 哥哥看了 118 頁小說後，還有 344 頁，這本小說共有多少頁？

提示

小說的頁數
= 已看的頁數 + 餘下的頁數