

應用題訓練二



日期：_____

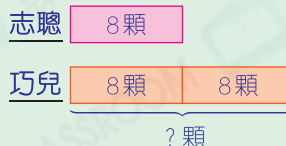
成績：_____

○ 加法 ○ 減法 ○ 乘法

1. 志聰有8顆果汁糖，巧兒有的果汁糖數量是志聰的2倍，巧兒有果汁糖多少顆？



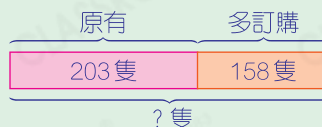
圖解



2. 餐廳原有203隻碟子，現多訂購了158隻後，現有碟子多少隻？



圖解



3.



每盒12元



每枝5元

- (a) 姊姊買了4盒鉛筆，即有鉛筆多少枝？



提示

根據題目要求，選取合適的數據計算。

- (b) 買3枝螢光筆，共須付多少元？

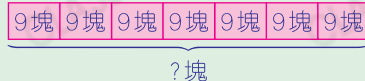
答案：_____元

4. 一罐餅乾，每天吃9塊，一星期吃完，這罐餅乾共有多少塊？



圖

解



5. 每瓶醋售7元，今天沒有人買醋。今天售出醋的收入是多少元？



提示

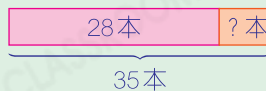
留意字眼「沒有人買」即今天售出0瓶醋。

6. 2B班共有35人，老師打算給每名學生派發一本練習簿。老師有28本練習簿，還欠多少本？



圖

解



7. (a) 由甲地往乙地的車程需要3小時，來回兩地一次共需要多久？



提示

留意字眼「來回」。

(b) 由甲地往乙地的車票售75元，付90元買一張車票，應找回
_____元。