



1分

8.

516

517

521

522

從一組順數排列的數字卡中取走幾張後，餘下以上的數字卡。取走的數字卡依順數是_____。

9. 小食店上午和下午各售出258粒魚蛋，全日共售出魚蛋多少粒？(列式計算)



1分



1分

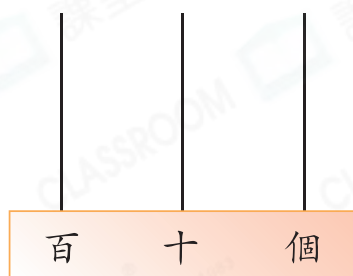
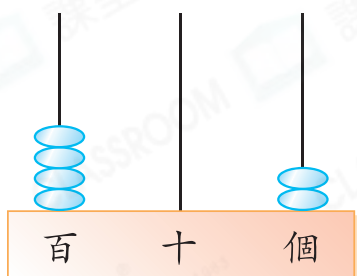


1分



1分

10. 下圖的算柱代表一個三位數。這個數加108是多少？把結果畫在右圖的算柱上。



11. 右圖是雙層巴士的座位數量。
下層限載78名乘客，下層有_____個企位。

乘客座位	
上層	59個
下層	27個




1分

12. 以下哪一項是不正確的？

- A. 4乘以5是20。 B. 3個9 = 9 + 9 + 9
 C. 0的5倍等於5。 D. 1 × 9 = 9



1分

13. 每輛  售 25 元，一套玩具車共有 6 輛。

(a) 一套玩具車共售 _____ 元。

(b) 展浩 每天儲蓄 20 元，最少要儲蓄 _____ 天才
足夠買一套玩具車。

14. 課室小學 有男生和女生各 256 人。長河小學 的學生
總人數比 課室小學 的多 136 人。長河小學 共有學生
多少人？



答案：_____ 人

15. 爸爸每天工作 8 小時，從 3 月 15 日至 3 月 20 日，他共
工作了多少小時？(列式計算)

16. 以下是機場快線每天首四班從機場開出的時間。

班次	第一班	第二班	第三班	第四班
開出時間	6:12 a.m.	6:32 a.m.	6:52 a.m.	7:12 a.m.

(a) 機場快線每 _____ 分鐘開出一班。

(b) 李太太 乘搭第二班機場快線從機場回家，56 分鐘
後回到家，那時是  上午 / 下午 ( 圈出答案)
_____ 時 _____ 分。



17. (a) 右圖的時鐘顯示家琪回到家的時間，她在下午_____時_____分回到家。



(b) 家琪在22分鐘後開始吃晚飯，當時是_____時_____分。

18.

六月						
星期日	星期一	星期二	星期三	星期四	星期五	星期六
		1	2	3	4	5
6	7	8	9	10	11	12
13	14	15	16	17	18	19
20	21	22	23	24	25	26
27	28					

以上月曆部分被塗污了。

(a) 7月1日是星期_____。

(b) 玉玲每逢星期三和星期四參加圍棋班，她六月共有_____天參加圍棋班。

(c) 「科技展」為期4天，在_____月_____日開始，在六月十四日結束。

19.

親子活動延期通告

原定於本週五(9月3日)舉行的親子活動，將延期至下週二舉行。
特此通告

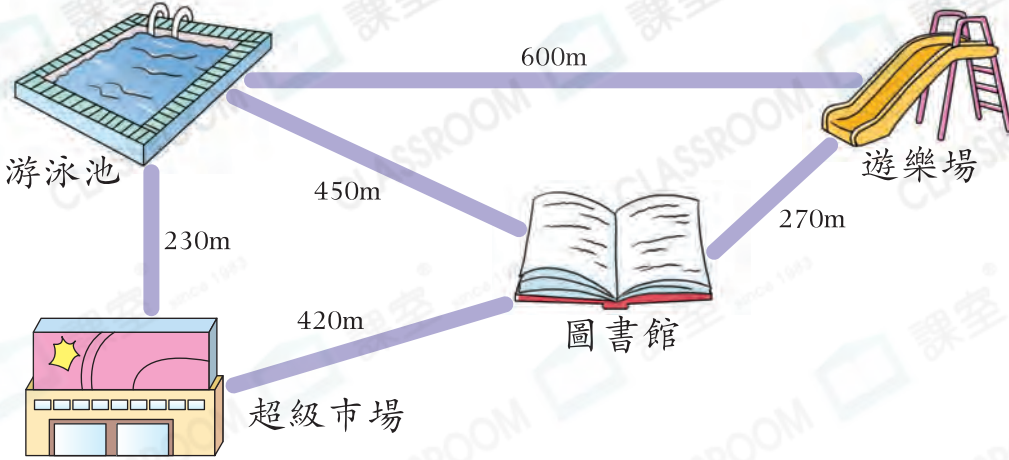
全體居民

社區中心謹啟

二零二零年八月三十日

親子活動將於_____月_____日舉行。

20.



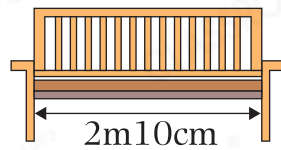
- (a) 距離圖書館最遠的地方是_____。
- (b) 由遊樂場經圖書館到游泳池，要走_____m。

21. 在橫線上填上適當的長度單位。

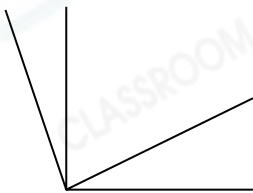
- (a) 一部智能手機約長15_____。
- (b) 一個游泳池約闊21_____。

22. 沙發比長椅短，沙發的長度可能是多少？

- A. 3m ○ B. 2m60cm
- C. 250cm ○ D. 205cm



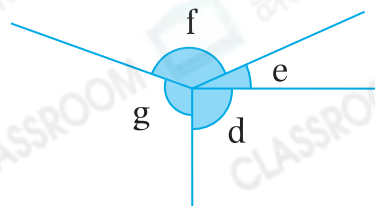
23.



左圖中，共有_____個銳角。

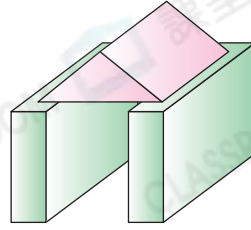
24. 根據指示，寫出所有代表答案的英文字母。

- (a) 鈍角：_____
- (b) 比直角小的角：_____

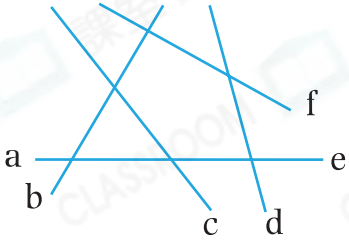




25. 右圖由一個 _____ 和兩個 _____ 組成。



26.



左圖中，直線 _____ 和 _____ 是一組垂直線。

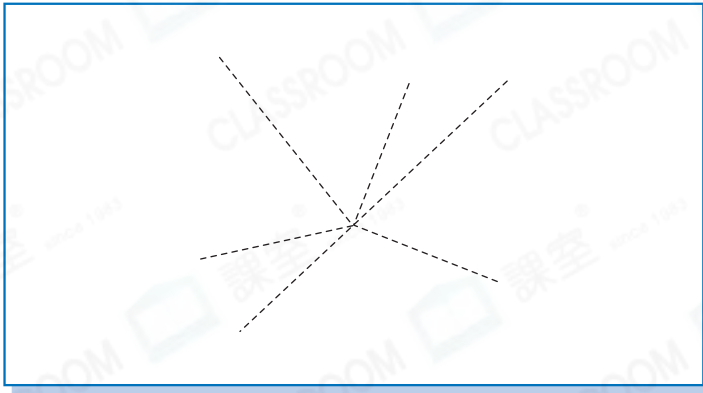


27. 下列哪一種立體圖形的面的數目是偶數？

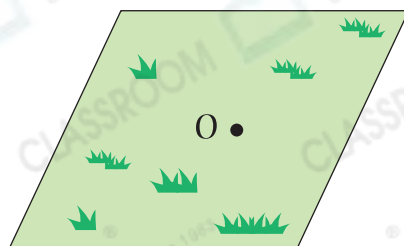
- A. 三角柱
- B. 四角錐
- C. 五角柱
- D. 五角錐



28. 在下圖中，沿着虛線畫出一個直角。



29. 山羊要從點O走到草地外圍，牠應怎樣走，路程才是最短的？在下圖中畫出山羊行走的路線。



別一剔

- 完成所有題目
- 已檢查答案