

公開試題型分析

數範疇

1. 在695這個數裏，數字「6」表示的數值是☆ 6 / 60 / 600 (☆圈出答案)。

得分重點

⊗ 找出「6」在哪個數位。

2. 把三個奇數由小至大排列如下：

201

?

319

(最小)

(最大)

得分重點

⊗ 留意字眼「奇數」。

⊗ 留意由小至大排列。

空格裏的數可能是：

○ A. 119

○ B. 210

○ C. 255

○ D. 320

3. 每個盒子有半打雞蛋，5個盒子共有_____隻雞蛋。

得分重點

⊗ 留意「半打」代表多少。

4.

班別	2A	2B	2C
人數	29	34	26

自修室有85個座位，2A班和2B班的學生入座後，空置座位還有多少個？(列式計算)

得分重點


⊗ 選取有用的數據。

⊗ 須寫出：

- 算式
- 答案
- 文字解說

度量範疇

5. 以下兩個鐘面分別顯示早間新聞的開始時間和完結時間。



(a) 早間新聞的開始時間是 _____ 午 _____ 時 _____ 分。

(b) 現在是上午7時53分，早間新聞還有 _____ 分鐘才完結。

得分重點

分兩個時間段計算：
「7:53至8:00」和
「8:00至8:10」

- 6.

九月						
星期日	星期一	星期二	星期三	星期四	星期五	星期六
	1	2	3	4	5	6
7	8	9	10	11	12	13
14	15	16	17	18	19	20
21	22	23	24	25	26	27
28	29					

(a) 慧欣逢星期六上一堂鋼琴課，九月份她共上了 _____ 堂鋼琴課。

(b) 鋼琴比賽由九月二十九日起一連四天舉行，慧欣在第三天出賽，那天是 _____ 月 _____ 日。

得分重點

在日曆上先圈出星期六的日子。

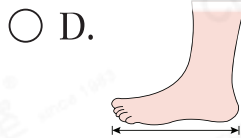
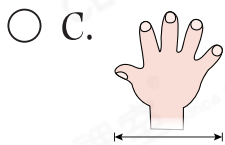
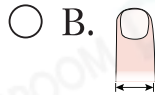
得分重點

找出「起始日期」。
留意「第三天出賽」。

7.



以下哪一項不適用來量度椅子和沙發之間的距離？



得分重點

⊕ 不適合選用與須量度的距離相差太大的量度工具。

圖形與空間範疇

8. 在下圖中，把x、y和z三個角由大至小排列出來。



答案：_____，_____，_____。
(最大) (最小)

得分重點

⊕ 按題目要求的順序排列。

9. 觀察下列各圖，寫出所有代表答案的英文字母。



列出由垂直線組成的圖。

答案：_____

得分重點

⊕ 須列出所有答案。
⊕ 留意非正常擺放的圖。