

第二次小測 (2上數學科)

姓名：

日期：

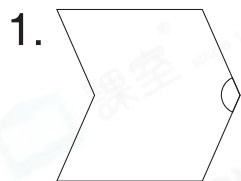
班別： ()

成績： /16


時限： 15分鐘

(範圍：練習6-8)

一、寫出下列各角的名稱。(3分)



_____ 角



_____ 角



_____ 角

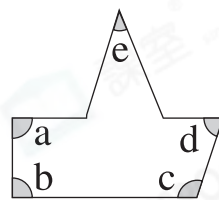
二、回答下列各題。(6分)

1. 左圖中，共有 _____ 組垂直線。

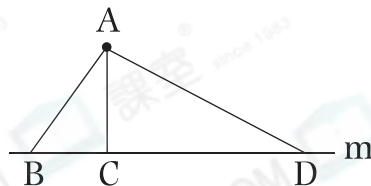
2. 右圖中，

(a) 有 _____ 個直角。

(b) 角 _____ 是最大的銳角。

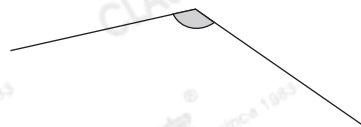


3. 右圖中， _____ 的長度表示 A 點到直線 m 的距離。



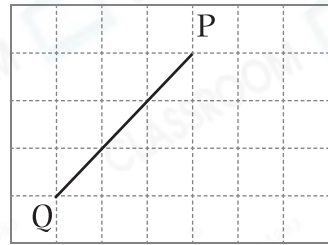
4. 右圖是一個 _____ 角，它比直角

☆ 大 / 小 (☆ 圈出答案)。




三、繪圖題。(3分)


1. 畫出一條與PQ互相垂直的直線。



2. 畫出一個銳角。



3. 畫出一個鈍角。

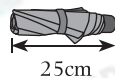
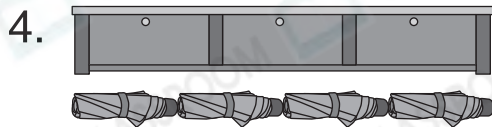


四、回答下列各題。(4分)

1. 一棵樹高 2 米 10 厘米，即高_____厘米。

2. 一條鑰匙的長度約是 5[★] m / cm (★圈出答案)。

3. 圈出最適合用來量度標準羽毛球場長度的工具。



明珍用雨傘量度櫃子的長度，櫃子約長_____m。