

複習二

● 1上至1下課題



日期：_____



成績：_____ /14



時限： 20分鐘

範疇	評估重點	題目	得分
數	<ul style="list-style-type: none"> 100以內的數 加法和減法 	1 - 5	/7
度量	<ul style="list-style-type: none"> 時間 長度和距離 	6 - 8	/3
圖形與空間	<ul style="list-style-type: none"> 立體圖形 位置 	9 - 10	/4



自我評估

11-14分

8-10分

0-7分

1. 一箱紙巾有84包，用去一些，餘下31包，即用去了
_____包紙巾。

2.



選用上面其中兩張數字卡，

(a) 組成最大的兩位數是_____。

(b) 組成最小的兩位偶數是_____。

3. 凱兒有17個扣針，潔心有34個，兩人共有_____個扣針。

4. 店主以45元購入一把雨傘，加價16元後出售，雨傘的售價是多少元？(列式計算)

雨傘的售價是_____元。

評分欄



1分



1分



1分



1分



1分



1分

5. 把下列各數由大至小排列出來。

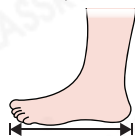
56, 27, 48

答案：_____，_____，_____

(最大) (最小)

6. 下列哪一項最適合用來量度杯子的高度？

A. 腳掌的長度



B. 肘距



C. 手指的闊度



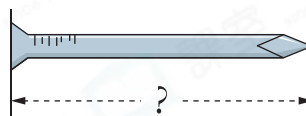
D. 指距



7. 用尺子量度鐵釘的長度。

答案：鐵釘長_____。

(答案須寫上單位)

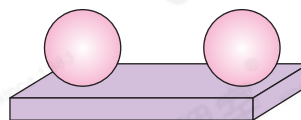


8.



鐘面顯示的時間是_____時。

9. 右圖的立體圖形是由一個_____和兩個_____所組成。



10. 白板上共有 3 個平面圖形。

(a) 在最_____面。

(b) 在最_____面。



1分



1分



1分



1分



1分



1分



1分



1分