

# 第四次小測 (2上數學科)

姓名：

日期：

班別：  ( )

成績：  /14

時限： 15分鐘

(範圍：練習12-15)

## 一、填上正確的時間。(2分)

1.



\_\_\_\_\_ 午 \_\_\_\_\_ 時 \_\_\_\_\_ 分

2.



\_\_\_\_\_ 午 \_\_\_\_\_ 時 \_\_\_\_\_ 分

## 二、根據月曆，回答下列各題。(3分)

九月						
日	一	二	三	四	五	六
					1	2
3	4	5	6	7	8	9
10	11	12	13	14	15	16
17	18	19	20	21	22	23
24	25	26	27	28	29	30

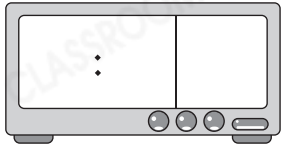
1. 這個月是☆月大 / 月小 (☆圈出答案)。

2. 今天是9月22日，上星期三是加美的生日，她的生日是在  
\_\_\_\_\_ 月 \_\_\_\_\_ 日。

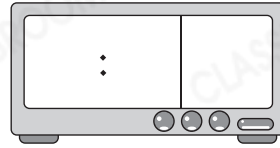
3. 加美的生日會在 3:25 p.m. 開始，舉行了 50 分鐘，生日會在  
\_\_\_\_\_ 午 \_\_\_\_\_ 時 \_\_\_\_\_ 分結束。

三、在數字鐘上填寫指定的時間和「a.m.」、「p.m.」。(2分)

1. 上午8時5分

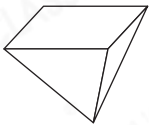


2. 下午11時半



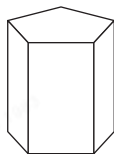
四、寫出下列各立體圖形的名稱。(3分)

1.



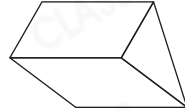
\_\_\_\_\_

2.



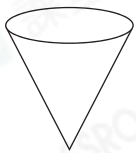
\_\_\_\_\_

3.

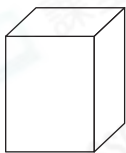


\_\_\_\_\_

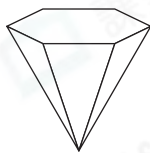
五、觀察下面的立體圖形，寫出所有代表答案的英文字母。(4分)



A



B



C



D

1. 側面是曲面的立體圖形： \_\_\_\_\_

2. 側面是三角形的立體圖形： \_\_\_\_\_

3. 有兩個底的立體圖形： \_\_\_\_\_

4. 能滾動的立體圖形： \_\_\_\_\_