

1

三位數



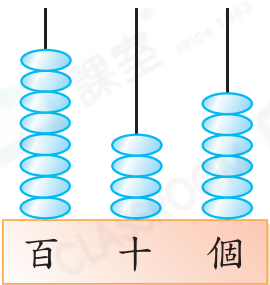
日期：_____

成績：_____



回答下列各題。

1.




(a) 百位數字是_____，代表_____。

(b) 十位數字是_____，代表_____。

(c) 個位數字是_____，代表_____。

2.



(a) 「5」在_____位，代表_____。

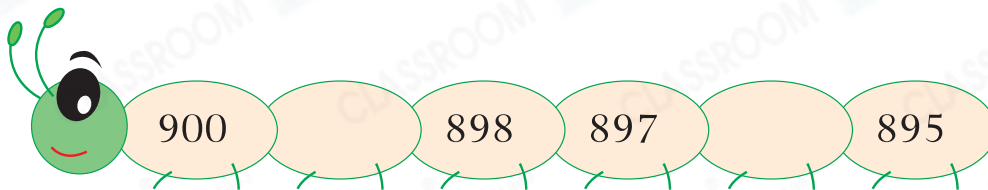
(b) 「1」在_____位，代表_____。

(c) 「6」在_____位，代表_____。

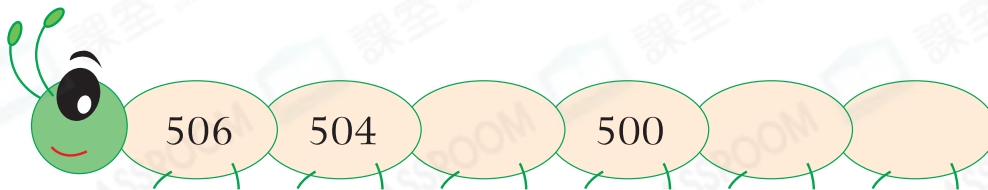


依規律填一填。

3.



4.



在 內填上「>」或「<」。

5. 290 300

6. 685 680

7. 517 509

8. 163 193



「>」表示大於；
「<」表示小於。

9. 用中國數字寫出「204」這個數。

答案：_____

10. 由423順數至437，共有奇數多少個？

答案：_____個

11.

禮品換領

憑328個印花可換領一雙手套



家欣有318個印花，她[★]可以 / 不可以 (★圈出答案)換領一雙手套。

12.



(a) 國濤用上面的數字卡組成三個不同的三位數，然後把它們由小至大排列出來。第二個數是160，在空格內填上適當的數。

答案： ， 160 ，
 (最小) (最大)

(b) 用上面的數字卡組成最小的三位偶數是_____。

得分重點

- ⊗ 0不能放在最高位。
- ⊗ 留意組成「偶數」。

13. 圖一的算柱代表一個三位數。這個數加5是多少？把結果畫在圖二的算柱上。

