




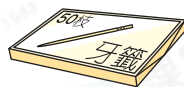



日期：_____

成績：_____



填一填。

1.



50

→

100

→

→

→

每50個一組數數，_____個50，共有_____枝牙籤。

2.



100

→

→

→


→

每100個一組數數，_____個100，共有_____張手工紙。



估一估，填一填。

3. 右圖中，

(a) 每格有_____粒 ，共
有_____格。(b) 共有_____粒 .

4. 一包便利貼有四種顏色，每種顏色約有25張。一包便利貼約共有多少張？

(a) 估計：25，50，_____，_____

(b) 一包便利貼約共有_____張。

5. 黃老師買了3盒萬字夾，即共有_____個萬字夾。



6.  我每月儲蓄20元。

男孩一月至八月共儲蓄_____元。

7. _____個50是250。

8. 便利店購入數箱即食麵，以下哪一項不可能是購入即食麵的數量？



A. 100 包


B. 150 包

C. 180 包

D. 200 包

9. 家倩把4包各有50顆的幸運星，每100顆放進一個大瓶子裏，最少需要_____個大瓶子。

10.



● 紅色：100分 黃色：50分 ●
● 藍色：25分 黑色：20分 ●

(a) 加雲的箭全部射中黑色，共得100分，她射出_____枝箭。



(b) 志偉有3枝箭射中黃色，兩人中誰的得分較高？為什麼？

答案：因為 _____

所以★ 加雲 / 志偉 (★圈出答案)的得分較高。