

## 7

## 加減應用題




日期：\_\_\_\_\_

成績：\_\_\_\_\_



完成下列各題。



\$36.90



\$30.50



\$20.00

1.

和  共值：

36元9角 + 30元5角

= \_\_\_\_\_ 元 \_\_\_\_\_ 角

元	角
36	9
+ 30	5
<input type="text"/>	<input type="text"/>

2.

比  貴：

\_\_\_\_\_ 元 \_\_\_\_\_ 角 ○ \_\_\_\_\_ 元

= \_\_\_\_\_ 元 \_\_\_\_\_ 角

元	角
<input type="text"/>	<input type="text"/>
○ <input type="text"/>	<input type="text"/>
<input type="text"/>	<input type="text"/>



列式計算下列各題。

3. 文具店有 340 個筆袋，比筆筒多 220 個。文具店有筆筒多少個？



文具店有筆筒：\_\_\_\_\_

4. 一條絲帶，兩姊妹各用去 146cm，還餘 75cm。這條絲帶長多少？



這條絲帶長：\_\_\_\_\_

5. 小文和小蕙各拿出 9 元 9 角，合資購買一包糖果後，餘下 3 元 5 角，一包糖果的售價是多少？

一包糖果的售價是：\_\_\_\_\_

6.



\$49.40




\$38.50



\$40.60


(a) 哥哥有 75 元 8 角，他想購買兩輛玩具車，<sup>★</sup> 尚欠 / 還餘  
(<sup>★</sup> 圈出答案) \_\_\_\_\_ 元 \_\_\_\_\_ 角。

(b) 妹妹有 80 元，如果她想買其中兩種不同的玩具，她只能選擇



7. 禮堂有 365 個座位，一年級學生入座後，還餘 86 個座位。一年級有 128 名女生，有 \_\_\_\_\_ 名男生。

8. 偉庭 以特價買了一頂帽子，他節省了 \_\_\_\_\_ 元 \_\_\_\_\_ 角。



原價：96 元  
特價：83 元 4 角

9. 子倩 的得分比 文珊 少 83 分，文珊 的得分是多少分？(列式計算)



海靜

數學比賽中，  
我得 270 分，  
比 子倩 多 19 分。

## 腦力挑戰站



詳盡提示

曉清 購買了 5 張海報，共付了 56 元。知建 購買了 3 張海報，共付了 33 元 6 角。海波 想購買 4 張海報，他共須付 \_\_\_\_\_ 元 \_\_\_\_\_ 角。