

8. (a) 現在買兩盒棉花棒可節省
 _____元_____角。

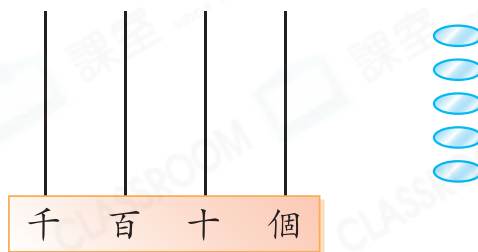


(b) 妹妹買了4盒棉花棒，即共買了
 _____枝棉花棒。

9. 子菁有一本352頁的童話故事書，昨天看了56頁，今天看了98頁，未看的有多少頁？

答案：_____頁

10. 把5粒算珠放在右面的算柱上，以表示出最小的四位數。把答案畫在算柱上。



11. 超級市場售出369瓶芒果汁、445瓶橙汁和476瓶汽水，果汁比汽水多售出多少瓶？(列式計算)



12. 工廠每天生產1000個紙杯。

(a) 工廠一星期共可生產_____個紙杯。

(b) 工人把紙杯每250個裝成一箱，工廠每天可生產
 _____箱紙杯。

13. 一個鞋櫃售265元，比一張椅子貴108元。一張椅子的售價是_____元。





14. 每包鈕扣有 200 顆。服裝店需要 798 顆鈕扣，該店最少要買鈕扣

A. 3 包。



B. 4 包。

C. 5 包。



D. 6 包。

15. 凱欣買了一盒牙膏，還餘下 36 元 8 角，她原有款項多少？(列式計算)



16. (a) 1 張  可換得 _____ 張 。




(b) 5 張  可換得 2 張  或



_____ 張 。

17. (a) 一艘玩具船的售價是 _____ 元 _____ 角。



\$178.50



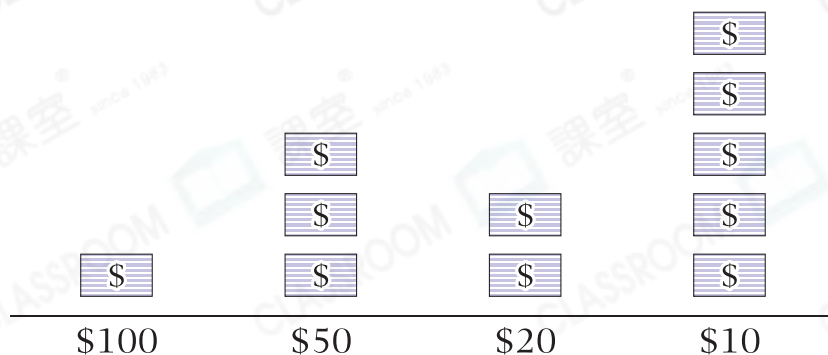
(b) 哥哥有 100 元，他想買一艘玩具船，還欠款項多少？圈出還欠的款項。



18. 下圖顯示美嫻錢包內的紙幣。

美嫻錢包內的紙幣

每個  代表 1 張紙幣



- (a) 美嫻錢包內共有 _____ 張紙幣。
- (b) ☆ \$100 / \$50 / \$20 / \$10 (☆ 圈出答案) 紙幣的總值最多。

19. 班長訪問了一些同學，統計他們最喜愛的課外書。

課外書	旅遊書	科普書	故事書	漫畫
人數(人)	5	4	8	7

根據統計結果，完成以下的象形圖，並加上標題。

(標題)


每個 😊 代表一人

旅遊書

科普書

故事書

漫畫



刷一刷
 完成所有題目
 已檢查答案