

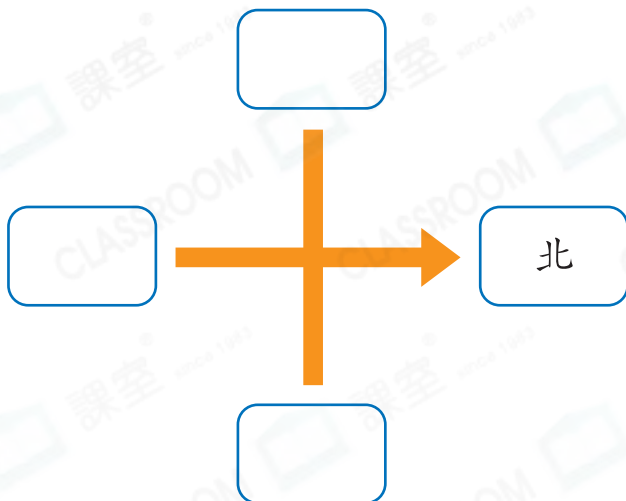


日期：_____

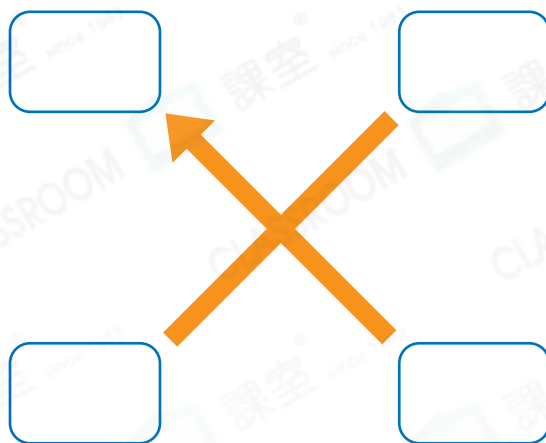
成績：_____

在 內填方向。

1.




2.



回答下列各題。

STEAM 百科

北極星是天空中最靠近正北方的一顆星。在古代，它是人們辨認方向的重要途徑之一。



3. 老人面向太陽升起的方向，即老人坐在入口的_____方。

4. 樹在老人的_____方。

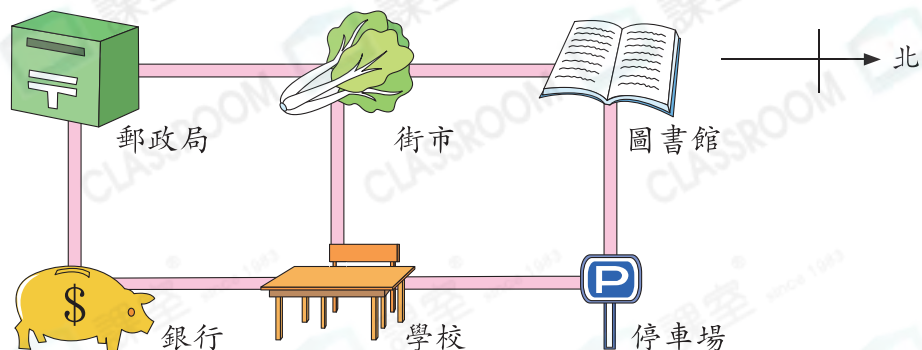
5. 秋千在樹的_____方。

6. 噴水池在秋千的_____方。



太陽升起的方向是東方，
太陽落下的方向是西方。

7.




- (a) 銀行在學校的_____方。
- (b) 由停車場向西方走，會到達_____。
- (c) 媽媽由郵政局去學校接妹妹放學，她應先向_____方走，經過_____，再往_____方走便可到達。

得分重點

- ⊗ 正確讀出其他三個方向。
- ⊗ 把方向標示移至適當位置。

8.



嘉欣應怎樣走才能到達出口？

答案：她應先向★ 東 / 南 / 西 / 北 方走，然後轉向

★ 東 / 南 / 西 / 北 方走，再向

★ 東 / 南 / 西 / 北 方走便能到達出口。(★ 圈出答案)



9. 右圖中，志林沿着路向南方走，走到路口時，康明從他的左面走來。康明正向哪個方向走？

- A. 東方 ○ B. 南方
- C. 西方 ○ D. 北方

